

Ciências Biológicas | Química | Física

UNICAMP
vestibular
2017

Instruções para a realização da prova

- Neste caderno, deverão ser respondidas as questões das provas de **Ciências Biológicas** (questões de 1 a 6), de **Química** (questões de 7 a 12) e de **Física** (questões de 13 a 18).
- **A prova deve ser feita a caneta esferográfica preta. Utilize apenas o espaço reservado (pautado) para a resolução das questões.**
- **Atenção:** nas questões que exigem cálculo, não basta escrever apenas o resultado final. É necessário mostrar a resolução ou o raciocínio utilizado para responder às questões.
- **A duração total da prova é de quatro horas.**

ATENÇÃO

Os rascunhos **não** serão considerados na correção.

UNICAMP VESTIBULAR 2017 – 2ª FASE
CIÊNCIAS BIOLÓGICAS | QUÍMICA | FÍSICA

ORDEM

INSCRIÇÃO

ESCOLA

SALA

LUGAR NA
SALA

NOME

ASSINATURA DO CANDIDATO

COMVEST
COMISSÃO PERMANENTE PARA OS VESTIBULARES




UNICAMP
PRÓ-REITORIA DE GRADUAÇÃO

As fórmulas necessárias para a resolução de algumas questões são fornecidas no próprio enunciado – leia com atenção. Quando necessário, use:
 $g = 10 \text{ m/s}^2$
 $\pi = 3$

Classificação Periódica dos Elementos Químicos

1																	18
1 H Hidrogênio 1,0079																	2 He Hélio 4,0026
3 Li Lítio 6,941(2)	4 Be Berílio 9,0122											5 B Boro 10,811(5)	6 C Carbono 12,011	7 N Nitrogênio 14,007	8 O Oxigênio 15,999	9 F Fluor 18,998	10 Ne Neônio 20,180
11 Na Sódio 22,990	12 Mg Magnésio 24,305											13 Al Alumínio 26,982	14 Si Silício 28,086	15 P Fósforo 30,974	16 S Enxofre 32,066(6)	17 Cl Cloro 35,453	18 Ar Argônio 39,948
19 K Potássio 39,098	20 Ca Cálcio 40,078(4)	21 Sc Escândio 44,956	22 Ti Titânio 47,867	23 V Vanádio 50,942	24 Cr Cromio 51,996	25 Mn Manganês 54,938	26 Fe Ferro 55,845(2)	27 Co Cobalto 58,933	28 Ni Níquel 58,693	29 Cu Cobre 63,546(3)	30 Zn Zinco 65,39(2)	31 Ga Gálio 69,723	32 Ge Germânio 72,61(2)	33 As Arsênio 74,922	34 Se Selênio 78,96(3)	35 Br Bromo 79,904	36 Kr Criptônio 83,80
37 Rb Rubídio 85,468	38 Sr Estrôncio 87,62	39 Y Ítrio 88,906	40 Zr Zircônio 91,224(2)	41 Nb Nióbio 92,906	42 Mo Molibdênio 95,94	43 Tc Tecnécio 98,906*	44 Ru Rutênio 101,07(2)	45 Rh Ródio 102,91	46 Pd Paládio 106,42	47 Ag Prata 107,87	48 Cd Cádmio 112,41	49 In Índio 114,82	50 Sn Estanho 118,71	51 Sb Antimônio 121,76	52 Te Telúrio 127,60(3)	53 I Iodo 126,90	54 Xe Xenônio 131,29(2)
55 Cs Césio 132,91	56 Ba Bário 137,33	57 a 71 La-Lu	72 Hf Háfnio 178,49(2)	73 Ta Tântalo 180,95	74 W Tungstênio 183,84	75 Re Rênio 186,21	76 Os Ósmio 190,23(3)	77 Ir Iridio 192,22	78 Pt Platina 195,08(3)	79 Au Ouro 196,97	80 Hg Mercúrio 200,59(2)	81 Tl Tálio 204,38	82 Pb Chumbo 207,2	83 Bi Bismuto 208,98	84 Po Polônio 209,98*	85 At Astató 209,99*	86 Rn Radônio 222,02*
87 Fr Frâncio 223,02*	88 Ra Rádio 226,03*	89 a 103 Ac-Lr	104 Rf Rutherfordio 261*	105 Db Dúbnio 262*	106 Sg Seabórgio ---	107 Bh Bóhrnio ---	108 Hs Hássio ---	109 Mt Meitnério ---									

Número atômico → 25
 Símbolo → **Mn**
 Nome → Manganês
 Massa atômica → 54,938

Massa atômica relativa. A incerteza no último dígito é ±1, exceto quando indicado entre parêntesis. Os valores com * referem-se ao isótopo mais estável.

57 La Lantânio 138,91	58 Ce Cério 140,12	59 Pr Praseodímio 140,91	60 Nd Neodímio 144,24(3)	61 Pm Promécio 146,2*9	62 Sm Samarco 150,36(3)	63 Eu Európio 151,96	64 Gd Gadolínio 157,25(3)	65 Tb Térbio 158,93	66 Dy Disprósio 162,50(3)	67 Ho Hólmio 164,93	68 Er Érbio 167,26(3)	69 Tm Túlio 168,93	70 Yb Ítérbio 173,04(3)	71 Lu Lutécio 174,97
89 Ac Actínio 227,03*	90 Th Tório 232,04*	91 Pa Protactínio 231,04*	92 U Urânio 238,03*	93 Np Netúnio 237,05*	94 Pu Plutônio 239,05*	95 Am Americio 241,06*	96 Cm Cúrio 244,06*	97 Bk Berquélcio 249,08*	98 Cf Califórnio 252,08*	99 Es Einsténio 252,08*	100 Fm Férmio 257,10*	101 Md Mendelévio 258,10*	102 No Nobélio 259,10*	103 Lr Laurêncio 262,11

RASCUNHO

7. Os símbolos abaixo são utilizados como alerta nos rótulos de recipientes de vários produtos de uso cotidiano em laboratórios ou residências, podendo se relacionar às seguintes espécies: etanol, amônia, glúten, alimento modificado e argônio.



1



2



3



4



5



6

- a) Preencha os parêntesis no espaço de resposta com o número correspondente ao símbolo adequado para cada espécie.
- b) Um recipiente com ácido sulfúrico apresenta um dos símbolos mostrados no enunciado. Identifique esse símbolo pelo seu respectivo número e justifique a concepção desse símbolo em função da natureza do produto em questão.

Resolução (será considerado apenas o que estiver dentro deste espaço).

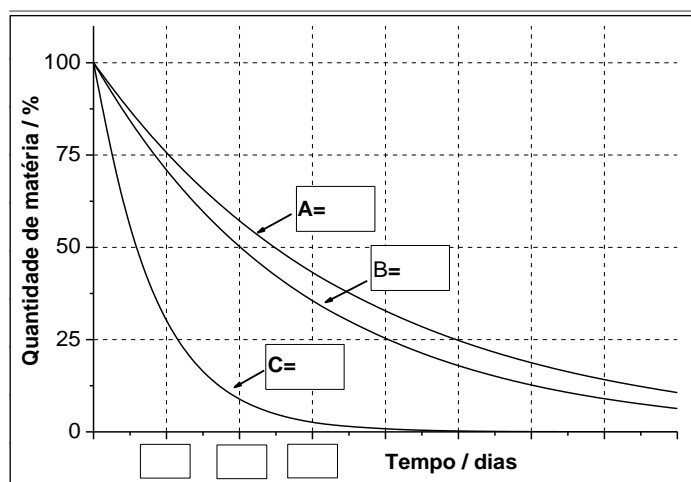
a) etanol (); amônia (); argônio (); alimento modificado (); glúten ()

RASCUNHO

8. A braquiterapia é uma técnica médica que consiste na introdução de pequenas sementes de material radiativo nas proximidades de um tumor. Essas sementes, mais frequentemente, são de substâncias como ^{192}Ir , ^{103}Pd ou ^{125}I . Estes três radioisótopos sofrem processos de decaimento através da emissão de partículas ${}^0_{-1}\beta$. A equação de decaimento pode ser genericamente representada por ${}^A_p\text{X} \rightarrow {}^{A'}_{p'}\text{Y} + {}^0_{-1}\beta$, em que X e Y são os símbolos atômicos, A e A' são os números de massa e p e p' são os números atômicos dos elementos.

- a) Tomando como modelo a equação genérica fornecida, escolha apenas um dos três radioisótopos utilizados na braquiterapia, consulte a tabela periódica e escreva sua equação completa no processo de decaimento.
- b) Os tempos de meia vida de decaimento (em dias) desses radioisótopos são: ^{192}Ir (74,2), ^{103}Pd (17) e ^{125}I (60,2). Com base nessas informações, complete o gráfico que aparece no espaço de resolução, identificando as curvas A, B e C com os respectivos radioisótopos, e colocando os valores nas caixas que aparecem no eixo que indica o tempo.

Resolução (será considerado apenas o que estiver dentro deste espaço).

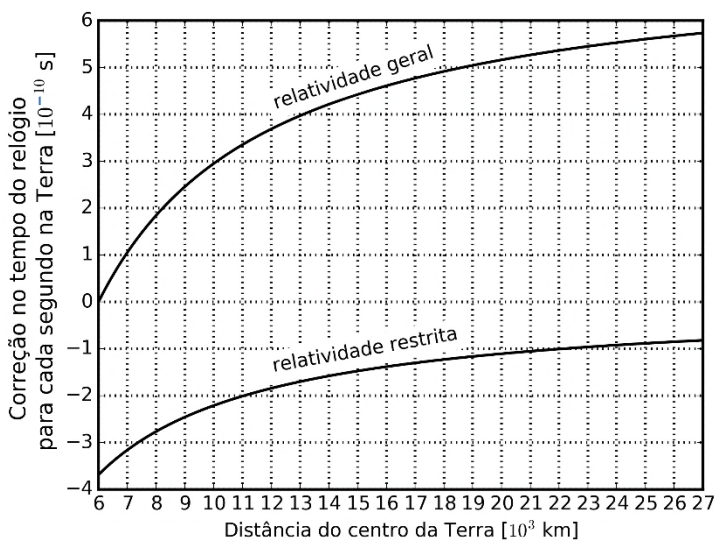


RASCUNHO

13. O uso do sistema de localização GPS (*Global Positioning System*) cresceu bastante nos últimos tempos devido principalmente à existência do sensor GPS na maioria dos celulares disponíveis no mercado. Nesses celulares, o sinal de GPS tem sido usado para localização do aparelho em mapas, para obter sugestões de rotas e até em jogos. Considere que os satélites responsáveis por enviar o sinal GPS encontram-se a aproximadamente $R_{GPS}=27.000$ km do centro da Terra, seu período de rotação em torno do centro da Terra é $T_{GPS} = 12$ horas e sua órbita é circular.

- a) Qual é a velocidade escalar média de um satélite do sistema GPS?
- b) Os satélites de GPS enviam continuamente as três coordenadas que determinam sua posição atual e o horário do envio da mensagem. Com as informações de 4 satélites, o receptor pode determinar a sua posição e o horário local. Para garantir a precisão dessas informações, efeitos relativísticos são considerados na determinação do horário enviado pelos satélites. Os relógios localizados nos satélites são afetados principalmente por efeitos da relatividade restrita, que atrasam os relógios, e da relatividade geral, que adiantam os relógios, conforme mostra a figura abaixo. Qual é a distância do centro da Terra R e o período T da órbita em que os efeitos da relatividade geral e da relatividade restrita se cancelam, ou seja, quando a soma dos dois efeitos é zero?

Resolução (será considerado apenas o que estiver dentro deste espaço).

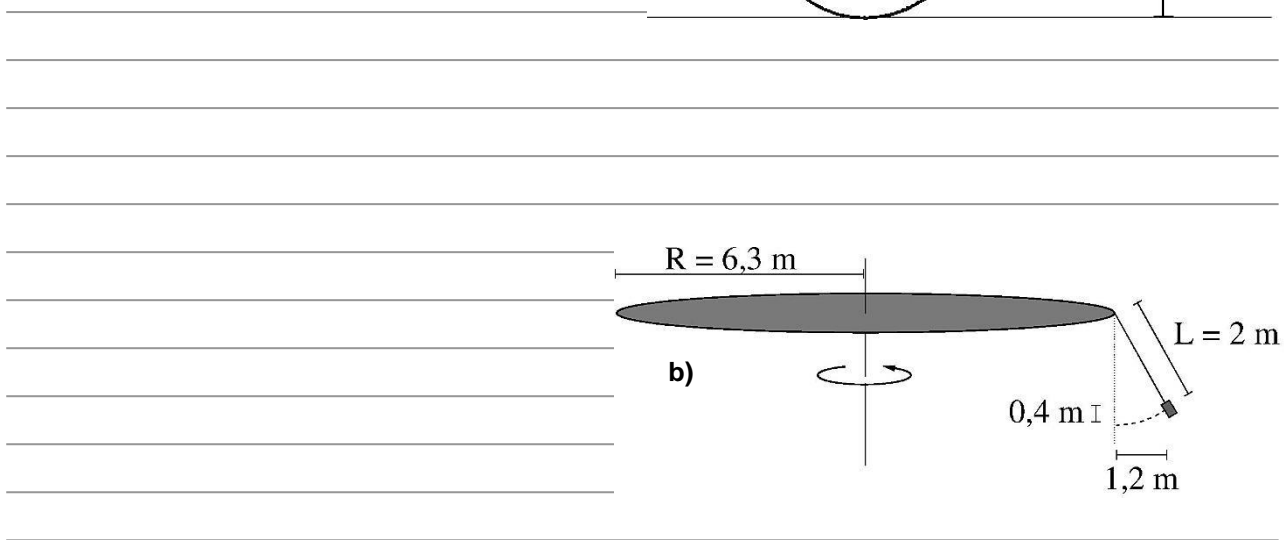
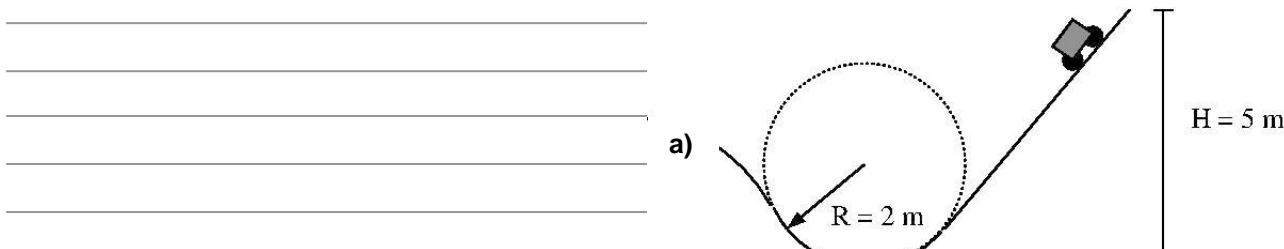


RASCUNHO

15. Os brinquedos de parques de diversões utilizam-se de princípios da Mecânica para criar movimentos aos quais não estamos habituados, gerando novas sensações. Por isso um parque de diversões é um ótimo local para ilustrar princípios básicos da Mecânica.

- a) Considere uma montanha russa em que um carrinho desce por uma rampa de altura $H = 5 \text{ m}$ e, ao final da rampa, passa por um trecho circular de raio $R = 2 \text{ m}$, conforme mostra a figura a) abaixo. Calcule o módulo da aceleração no ponto mais baixo do circuito, considerando que o carrinho partiu do repouso.
- b) Outro brinquedo comum em parques de diversões é o chapéu mexicano, em que cadeiras são penduradas com correntes na borda de uma estrutura circular que gira com seu eixo de rotação perpendicular ao solo. Considere um chapéu mexicano com estrutura circular de raio $R = 6,3 \text{ m}$ e correntes de comprimento $L = 2 \text{ m}$. Ao girar, as cadeiras se elevam 40 cm , afastando-se $1,2 \text{ m}$ do eixo de rotação, conforme mostra a figura b) abaixo. Calcule a velocidade angular de rotação do brinquedo.

Resolução (será considerado apenas o que estiver dentro deste espaço).

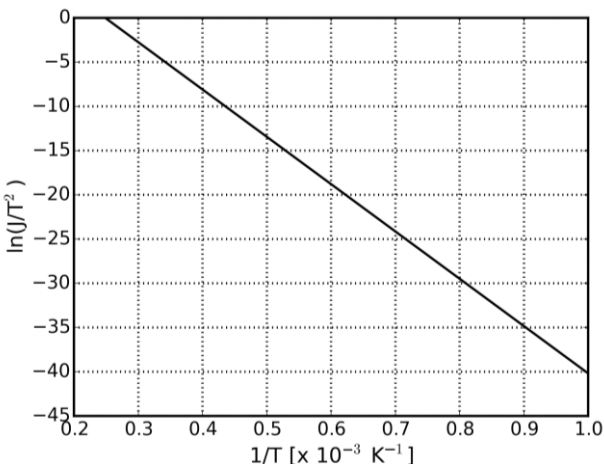


RASCUNHO

17. Um instrumento importante no estudo de sistemas nanométricos é o microscópio eletrônico. Nos microscópios ópticos, a luz é usada para visualizar a amostra em estudo. Nos microscópios eletrônicos, um feixe de elétrons é usado para estudar a amostra.

- a) A vantagem em se usar elétrons é que é possível acelerá-los até energias em que o seu comprimento de onda é menor que o da luz visível, permitindo uma melhor resolução. O comprimento de onda do elétron é dado por $\lambda = h/(2m_e E_c)^{1/2}$, em que E_c é a energia cinética do elétron, $m_e \sim 9 \times 10^{-31}$ kg é a massa do elétron e $h \sim 6,6 \times 10^{-34}$ N·m·s é a constante de Planck. Qual é o comprimento de onda do elétron em um microscópio eletrônico em que os elétrons são acelerados, a partir do repouso, por uma diferença de potencial de $U = 50$ kV? Caso necessário, use a carga do elétron $e = 1,6 \times 10^{-19}$ C.
- b) Uma forma usada para gerar elétrons em um microscópio eletrônico é aquecer um filamento, processo denominado efeito termiônico. A densidade de corrente gerada é dada por $J = AT^2 e^{(-\Phi/(k_B T))}$, em que A é a constante de Richardson, T é a temperatura em kelvin, $k_B = 1,4 \times 10^{-23}$ J/K é a constante de Boltzmann e Φ , denominado função trabalho, é a energia necessária para remover um elétron do filamento. A expressão para J pode ser reescrita como $\ln(J/T^2) = \ln(A) - (\Phi/k_B)(1/T)$, que é uma equação de uma reta de $\ln(J/T^2)$ versus $(1/T)$, em que $\ln(A)$ é o coeficiente linear e (Φ/k_B) é o coeficiente angular da reta. O gráfico da figura abaixo apresenta dados obtidos do efeito termiônico em um filamento de tungstênio. Qual é a função trabalho do tungstênio medida neste experimento?

Resolução (será considerado apenas o que estiver dentro deste espaço).



RASCUNHO

