

**FUVEST**  
**2004**  
Segunda Fase

Prova de História

05/01/2004

**Q.01**

“Parece-me que ... o temor religioso salvaguarda os interesses de Roma. Desenvolvendo este sentimento, pensava-se, sobretudo, no povo. Em uma sociedade composta apenas por sábios, esta precaução talvez não fosse necessária; mas como toda multidão é cheia de inconstância, de paixões desregradas, de cóleras violentas e irrefletidas, não é possível, a quem quer que seja, mantê-la, exceto pelo temor de seres invisíveis e por toda espécie de ficções.”

Políbio, autor romano do século II A.C.

Baseando-se no texto, indique:

- a) A relação estabelecida pelo autor entre religião e política.
- b) Duas características da religião romana no período em que o texto foi escrito.

---

**Q.02**

A imprensa de tipos móveis de madeira foi inicialmente uma invenção chinesa do século XI. Posteriormente, em meados do século XV, a imprensa foi introduzida, com modificações, na Europa, difundindo-se a produção de livros religiosos e, logo depois, de livros de literatura, de poesia e de viagens, tudo isto com extraordinária rapidez.

Considerando o texto, indique:

- a) Como e por quem eram transmitidos os conhecimentos escritos antes da introdução da imprensa na Europa medieval?
- b) Uma transformação decorrente da difusão da imprensa na Europa entre os séculos XVI e XVIII.

**Q.03**

“O ouro e a prata que os reis incas tiveram em grande quantidade não eram avaliados [por eles] como tesouro porque, como se sabe, não vendiam nem compravam coisa alguma por prata nem por ouro, nem por eles pagavam os soldados, nem os gastavam com alguma necessidade que lhes aparecesse; tinham-nos como supérfluos, porque não eram de comer. Somente os estimavam por sua formosura e esplendor e para ornamento [das casas reais e ofícios religiosos]”.

Garcilaso de la Vega, *Comentários Reais*, 1609.

Com base no texto, aponte:

- a) As principais diferenças entre o conjunto das idéias expostas no texto e a visão dos conquistadores espanhóis sobre a importância dos metais preciosos na colonização.
- b) Os princípios básicos do mercantilismo.

---

**Q.04**

“Depois de permanecermos ali pelo espaço de dois meses, durante os quais procedemos ao exame de todas as ilhas e sítios da terra firme, batizou-se toda a região circunvizinha, que fora por nós descoberta, de França Antártica. (...)”

Em seguida, o senhor de Villegagnon, para se garantir contra possíveis ataques de selvagens, que se ofendiam com extrema facilidade e também contra os portugueses, se estes alguma vez quisessem aparecer por ali, fortificou o lugar da melhor maneira que pôde.”

André Thevet, *As singularidades da França Antártica*, 1556.

Tendo por base o texto, indique:

- a) A qual região brasileira o autor se refere e por que afirma ter sido “por nós descoberta”?
- b) Quais foram os resultados do estabelecimento da França Antártica?

**Q.05**

“Os soldados franceses que guerrearam da Andaluzia a Moscou, do Báltico à Síria [...] estenderam a universalidade de sua revolução mais eficazmente do que qualquer outra coisa. E as doutrinas e instituições que levaram consigo, mesmo sob o comando de Napoleão, eram doutrinas universais, como os governos sabiam e como também os próprios povos logo viriam a saber.”

Eric Hobsbawm. *A era das revoluções – 1789 – 1848.*

Baseando-se no texto, aponte:

- a) As doutrinas e instituições referidas pelo autor.
- b) Os desdobramentos dessas guerras para a América Ibérica.

---

**Q.06**

**Canção 1**

Suba ao trono o jovem Pedro  
Exulte toda a Nação;  
Os heróis, os pais da Pátria  
Aprovaram com união.

**Canção 2**

Por subir Pedrinho ao trono,  
Não fique o povo contente;  
Não pode ser coisa boa  
Servindo com a mesma gente.

Quadrinhas populares cantadas nas ruas do Rio de Janeiro em 1840.

Compare as quadrinhas populares e responda:

- a) Por que D. Pedro II tornou-se imperador, antes dos dezoito anos, como previa a Constituição?
- b) Quais as diferentes posições políticas expressas nas duas canções populares?

**Q.07**

“Na comunidade doméstica de constituição patriarcal, ainda bem viva durante nosso Império, os escravos constituíam uma simples ampliação do círculo familiar. Por isso e também por motivos compreensíveis de interesse econômico, o bem estar dos escravos devia ser mais caro ao fazendeiro do que o dos colonos.”

Sergio Buarque de Holanda. Introdução da obra *Memória de um colono no Brasil* de Thomas Davatz.

Com base no texto,

- a) Indique quais os conflitos decorrentes da tradição escravista dos fazendeiros com relação ao emprego da mão-de-obra livre.
- b) Explique o que levou os colonos a deixarem a Europa e virem para o Brasil, apesar dos problemas apontados.

**Q.08**



Reprodução de Cartaz da Revolução de 1932.

Observando o cartaz:

- a) Identifique os três personagens.
- b) Explique a frase “Abaixo a Ditadura”.

**Q.09**

A Primeira Guerra Mundial, (1914-1918), foi o primeiro conjunto de acontecimentos que abalou seriamente o domínio colonial e a existência de impérios europeus no século XX.

Tendo por base o texto, explique:

- a) A associação entre o colonialismo europeu e a Primeira Guerra.
- b) A relação entre a Primeira Guerra e a destruição do Império Russo.

---

**Q.10**

“Os militares latino-americanos já provaram ser a maior força coesiva de que se dispõe para assegurar a ordem pública e apoiar governos resolutos na tentativa de manter a segurança interna. As Forças Armadas da América Latina, atuando em conjunto com a polícia e outras forças de segurança, ajudaram a pôr cobro a desordens e greves, a conter ou eliminar terroristas e guerrilhas e desencorajar todos os que se sentiam tentados a apelar para a violência a fim de derrubar o governo.”

Relatório do Comitê de Negócios Estrangeiros do  
Congresso dos Estados Unidos, 1967.

Tendo por base as afirmações do Relatório, responda:

- a) A que situação histórica se refere o texto? Dê um exemplo.
- b) Qual o papel atribuído aos militares pelo Comitê? Explique sua resposta.

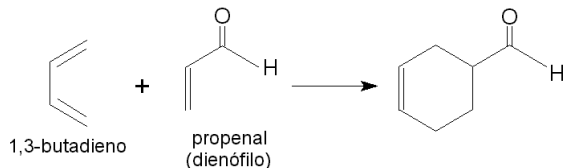
**FUVEST**  
**2004**  
Segunda Fase

Prova de Química

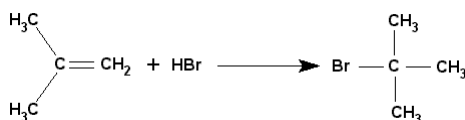
05/01/2004

**Q.01**

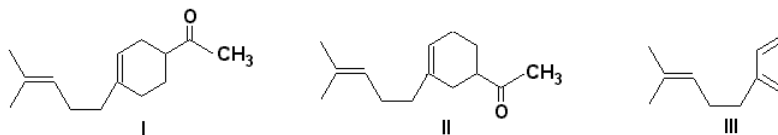
Uma reação química importante, que deu a seus descobridores (O.Diels e K.Alder) o prêmio Nobel (1950), consiste na formação de um composto cíclico, a partir de um composto com duplas ligações alternadas entre átomos de carbono (diene) e outro, com pelo menos uma dupla ligação, entre átomos de carbono, chamado de dienófilo. Um exemplo dessa transformação é:



Compostos com duplas ligações entre átomos de carbono podem reagir com HBr, sob condições adequadas, como indicado:



Considere os compostos I e II, presentes no óleo de lavanda:



- O composto III reage com um dienófilo, produzindo os compostos I e II. Mostre a fórmula estrutural desse dienófilo e nela indique, com setas, os átomos de carbono que formaram ligações com os átomos de carbono do diene, originando o anel.
- Mostre a fórmula estrutural do composto formado, se 1 mol do composto II reagir com 2 mols de HBr, de maneira análoga à indicada para a adição de HBr ao 2-metilpropeno, completando a equação química da página ao lado.
- Na fórmula estrutural do composto II, (página ao lado), assinale, com uma seta, o átomo de carbono que, no produto da reação do item b, será assimétrico. Justifique.

**Q.02**

Tensoativos são substâncias que promovem a emulsificação de uma mistura de água e óleo, não permitindo sua separação em camadas distintas. Esta propriedade se deve ao fato de possuírem, em sua estrutura molecular, grupos com grande afinidade pela água (hidrofílicos) e também grupos com afinidade pelo óleo (lipofílicos).

Um tensoativo, produzido a partir de duas substâncias naturais, sendo uma delas a sacarose ( $\text{C}_{12}\text{H}_{22}\text{O}_{11}$ ), é utilizado na produção de alimentos tais como sorvetes, maioneses e molhos para salada. Sua fórmula estrutural é mostrada na página ao lado.

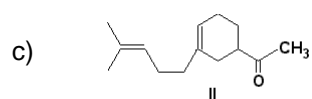
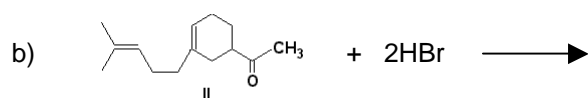
- Qual é a fórmula molecular do composto que, ao reagir com a sacarose, produz o tensoativo citado? A que função orgânica pertence?
- Na fórmula estrutural do tensoativo, circunde, com uma linha pontilhada, a parte hidrofílica e a parte lipofílica. Justifique sua escolha, em termos de forças de interação do tensoativo com a água e com o óleo.



## Folha de Resposta da questão Q.01 e Q.02

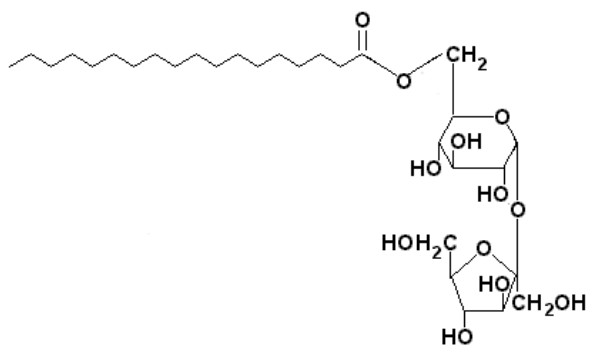
### Q.01

a)



---

### Q.02



**Q.03**

A análise elementar de um determinado ácido carboxílico resultou na fórmula mínima  $C_2H_4O$ . Determinada amostra de 0,550 g desse ácido foi dissolvida em água, obtendo-se 100 mL de solução aquosa. A esta, foram adicionadas algumas gotas de fenolftaleína e, lentamente, uma solução aquosa de hidróxido de sódio, de concentração 0,100 mol/L. A cada adição, a mistura era agitada e, quando já tinham sido adicionados 62,4 mL da solução de hidróxido de sódio, a mistura, que era incolor, tornou-se rósea.

Para o ácido analisado,

- calcule a massa molar.
- determine a fórmula molecular.
- dê as possíveis fórmulas estruturais.
- dê as fórmulas estruturais de dois ésteres isômeros do ácido considerado.

Dados: massa molar (g/mol)

H..... 1,0  
C..... 12,0  
O .... 16,0

**Q.04**

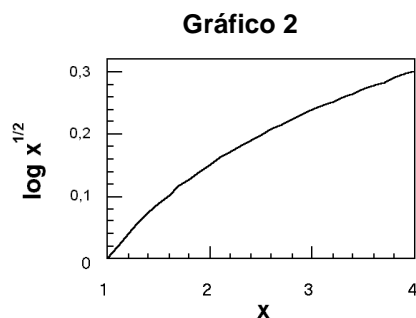
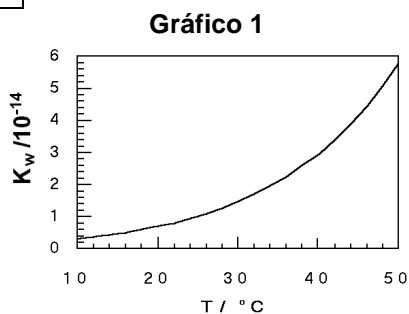
Um experimentador tentou oxidar zinco (Zn) com peróxido de hidrogênio ( $H_2O_2$ ), em meio ácido. Para isso, adicionou, ao zinco, solução aquosa de peróxido de hidrogênio, em excesso, e, inadvertidamente, utilizou ácido iodídrico [HI(aq)] para acidular o meio. Para sua surpresa, obteve vários produtos.

- Escreva as equações químicas balanceadas que representam as reações de oxirredução ocorridas no experimento, incluindo a que representa a decomposição do peróxido de hidrogênio, pela ação catalítica do metal.
- Poderá ocorrer reação entre o peróxido de hidrogênio e o ácido iodídrico? Justifique, utilizando semi-reações e os correspondentes potenciais padrão de redução.

Dados: Potenciais padrão de redução (V):

peróxido de hidrogênio, em meio ácido, dando água ..... 1,78  
oxigênio ( $O_2$ ), em meio ácido, dando peróxido de hidrogênio ..... 0,70  
iodo ( $I_2$ ) dando íons iodeto ..... 0,54  
íons  $H^+$  dando hidrogênio gasoso ( $H_2$ ) ..... 0,00  
íons  $Zn^{2+}$  dando zinco metálico ..... - 0,76

Q.05



O produto iônico da água,  $K_w$ , varia com a temperatura conforme indicado no gráfico 1.

- a) Na temperatura do corpo humano, 36 °C,
- 1 - qual é o valor de  $K_w$ ?
  - 2 - qual é o valor do pH da água pura e neutra? Para seu cálculo, utilize o gráfico 2.
- b) A reação de autoionização da água é exotérmica ou endotérmica? Justifique sua resposta, analisando dados do gráfico 1.

Assinale, por meio de linhas de chamada, todas as leituras feitas nos dois gráficos.

Q.06

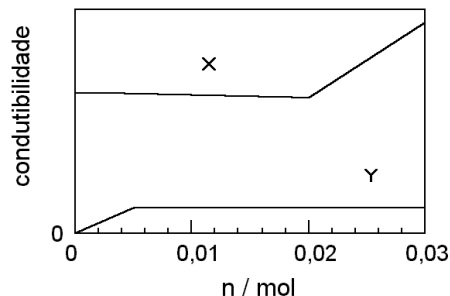
Num laboratório de ensino de Química, foram realizados dois experimentos:

- Uma solução aquosa bastante concentrada de nitrato de prata ( $\text{AgNO}_3$ ) foi adicionada, gradativamente, a 100 mL de uma solução aquosa de cloreto de sódio de concentração desconhecida.
- Fluoreto de lítio sólido ( $\text{LiF}$ ) foi adicionado, gradativamente, a 100 mL de água pura.

Em ambos os experimentos, registrou-se a condutibilidade elétrica em função da quantidade (em mols) de  $\text{AgNO}_3$  e  $\text{LiF}$  adicionados. No experimento I, a solução de  $\text{AgNO}_3$  era suficientemente concentrada para que não houvesse variação significativa do volume da solução original de cloreto de sódio. No experimento II, a quantidade total de  $\text{LiF}$  era tão pequena que variações de volume do líquido puderam ser desprezadas.

Utilize o gráfico para responder:

- Qual dos registros, X ou Y, deve corresponder ao experimento I e qual, ao experimento II? Explique seu raciocínio.
- Qual era a concentração da solução de cloreto de sódio original? Justifique.
- Qual é a solubilidade do  $\text{LiF}$ , em mol por 100 mL de água? Justifique.



Dados:

O produto de solubilidade do cloreto de prata é igual a  $1,8 \times 10^{-10}$ .

A contribuição dos íons nitrato e cloreto, para a condutibilidade da solução, é praticamente a mesma.

**Q.07**

O Veículo Lançador de Satélites brasileiro emprega, em seus propulsores, uma mistura de perclorato de amônio sólido ( $\text{NH}_4\text{ClO}_4$ ) e alumínio em pó, junto com um polímero, para formar um combustível sólido.

- Na decomposição térmica do perclorato de amônio, na ausência de alumínio, formam-se quatro produtos. Um deles é a água e os outros três são substâncias simples diatômicas, duas das quais são componentes naturais do ar atmosférico. Escreva a equação balanceada que representa essa decomposição.
- Quando se dá a ignição do combustível sólido, todo o oxigênio liberado na decomposição térmica do perclorato de amônio reage com o alumínio, produzindo óxido de alumínio ( $\text{Al}_2\text{O}_3$ ). Escreva a equação balanceada representativa das transformações que ocorrem pela ignição do combustível sólido.
- Para uma mesma quantidade de  $\text{NH}_4\text{ClO}_4$ , haverá uma diferença de calor liberado se sua decomposição for efetuada na presença ou na ausência de alumínio. Quanto calor a mais será liberado se 2 mols de  $\text{NH}_4\text{ClO}_4$  forem decompostos na presença de alumínio? Mostre o cálculo.

Dado: Calor de formação do óxido de alumínio =  $-1,68 \times 10^3$  kJ/mol

**Q.08**

Para demonstrar a combustão de substâncias em oxigênio puro, este gás pode ser gerado a partir de água sanitária e água oxigenada, que contêm, respectivamente, hipoclorito de sódio e peróxido de hidrogênio. A reação que ocorre pode ser representada por



É assim que, num frasco, coloca-se certo volume de água oxigenada e acrescenta-se, aos poucos, certo volume de água sanitária. Observa-se forte efervescência. Ao final da adição, tampa-se o frasco com um pedaço de papelão. Em seguida, palha de aço, presa a um fio de cobre, é aquecida em uma chama até ficar em brasa. O frasco com oxigênio é destampado e, rapidamente, a palha de aço rubra é nele inserida. Então, observa-se luminosidade branca intensa, com partículas de ferro incandescentes espalhando-se pelo frasco.

- Calcule o volume de água sanitária quando se usa, no experimento, um frasco de volume adequado, sabendo-se que deve ser gerado, nas condições ambiente, um volume de 500 mL de oxigênio, volume este suficiente para expulsar o ar e preencher o frasco.
- Explique por que, ao ar atmosférico, o ferro fica apenas vermelho rubro, mas queima rapidamente, quando exposto a oxigênio puro.

Dados: volume molar do oxigênio nas condições ambiente .....25,0 L/mol  
massa molar do  $\text{Cl}$ .....35,5 g/mol  
densidade da água sanitária.....1,0 g/mL  
composição da água sanitária: 2,13 g de  $\text{Cl}$ , na forma de hipoclorito, em 100 g de solução aquosa.

