

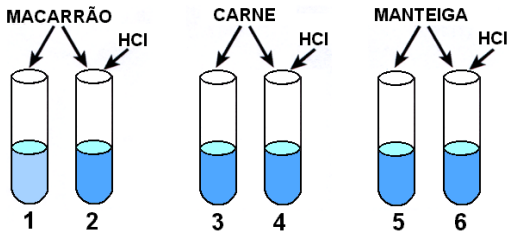
FUVEST
2004
Segunda Fase

Prova de Biologia

06/01/2004

Q.01

Uma enzima, extraída da secreção de um órgão abdominal de um cão, foi purificada, dissolvida em uma solução fisiológica com pH 8 e distribuída em seis tubos de ensaio. Nos tubos 2, 4 e 6, foi adicionado ácido clorídrico (HCl), de modo a se obter um pH final em torno de 2. Nos tubos 1 e 2, foi adicionado macarrão; nos tubos 3 e 4, foi adicionada carne; nos tubos 5 e 6, foi adicionada manteiga. Os tubos foram mantidos por duas horas à temperatura de 36°C. Ocorreu digestão apenas no tubo 1.



- Qual foi o órgão do animal utilizado na experiência?
- Que alteração é esperada na composição química da urina de um cão que teve esse órgão removido cirurgicamente? Por quê?
- Qual foi a substância que a enzima purificada digeriu?

Q.02

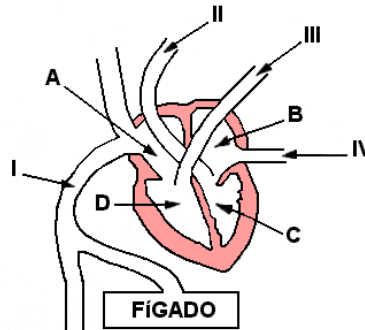
“Os genomas de dois parasitas que causam a esquistossomose foram seqüenciados, um passo que pode levar a vacinas para tratar e erradicar a doença. A esquistossomose causa mais enfermidade do que qualquer outra doença parasitária, com exceção da malária.”

(New Scientist, 20/09/03)

- O que significa dizer que os genomas dos dois parasitas foram seqüenciados?
- A que reinos de seres vivos pertencem os agentes causadores da malária e da esquistossomose?
- Qual é a maneira mais comum de uma pessoa contrair malária?
- Como uma pessoa contrai esquistossomose?

Q.03

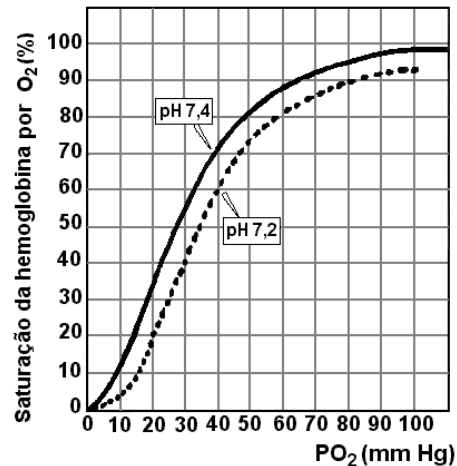
A figura abaixo esquematiza o coração de um mamífero.



- Em qual das câmaras do coração, identificadas por A, B, C e D, chega o sangue rico em gás oxigênio?
- Em qual dessas câmaras chega o sangue rico em gás carbônico?
- Qual dos vasos, identificados por I, II, III e IV, leva sangue do coração para os pulmões?
- Qual desses vasos traz sangue dos pulmões?

Q.04

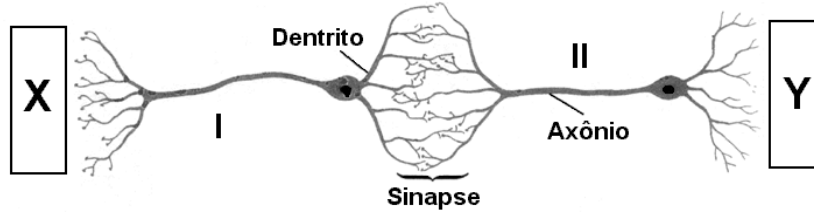
Na figura, as curvas mostram a variação da quantidade relativa de gás oxigênio (O_2) ligado à hemoglobina humana em função da pressão parcial de O_2 (PO_2), em pH 7,2 e pH 7,4. Por exemplo, a uma PO_2 de 104 mm Hg em pH 7,4, como a encontrada nos pulmões, a hemoglobina está com uma saturação de O_2 de cerca de 98%.



- Qual é o efeito do abaixamento do pH, de 7,4 para 7,2, sobre a capacidade de a hemoglobina se ligar ao gás oxigênio?
- Qual é a porcentagem de saturação da hemoglobina por O_2 , em um tecido com alta atividade metabólica, em que a PO_2 do sangue é de 14 mm Hg e o pH 7,2, devido à maior concentração de gás carbônico (CO_2)?
- Que processo celular é o principal responsável pelo abaixamento do pH do sangue nos tecidos com alta atividade metabólica?
- Que efeito benéfico, para as células, tem o pH mais baixo do sangue que banha os tecidos com alta atividade metabólica?

Q.05

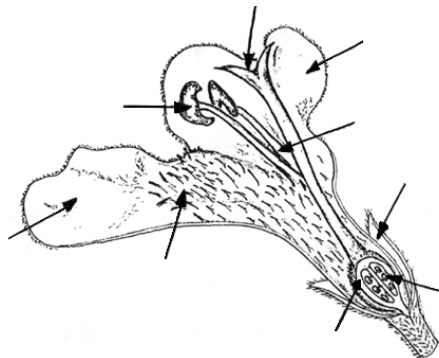
O esquema representa dois neurônios contíguos (I e II), no corpo de um animal, e sua posição em relação a duas estruturas corporais identificadas por X e Y.



- Tomando-se as estruturas X e Y como referência, em que sentido se propagam os impulsos nervosos através dos neurônios I e II?
- Considerando-se que, na sinapse mostrada, não há contato físico entre os dois neurônios, o que permite a transmissão do impulso nervoso entre eles?
- Explique o mecanismo que garante a transmissão unidirecional do impulso nervoso na sinapse.

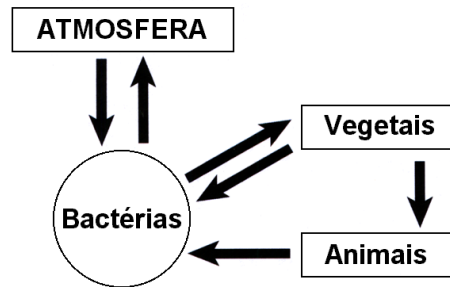
Q.06

O desenho mostra as estruturas de uma flor em corte longitudinal.



- Identifique com a letra "A" a seta que aponta a estrutura da qual um inseto retira pólen.
- Identifique com a letra "B" a seta que aponta a estrutura na qual o grão de pólen inicia o desenvolvimento do tubo polínico.
- Identifique com a letra "C" a seta que aponta a estrutura que irá se desenvolver dando origem ao fruto.
- Identifique com a letra "D" a seta que aponta a estrutura em que ocorre a união de gametas masculino e feminino e que dará origem à semente.

Q.07



- O esquema mostra, de maneira simplificada, o ciclo de que elemento químico?
- Que informação, dada pelo esquema, permite identificar esse elemento químico?
- Cite duas classes de macromoléculas presentes nos seres vivos, que contenham esse elemento químico.

Q.08

Num ambiente aquático, vivem algas do fitoplâncton, moluscos filtradores, peixes carnívoros e microrganismos decompositores.

Considerando um átomo de carbono, desde sua captura como substância inorgânica até sua liberação na mesma forma, depois de passar por forma orgânica, indique:

- a substância inorgânica que é capturada do ambiente, a maior seqüência de organismos nessa comunidade, pela qual esse átomo passa e a substância inorgânica que é liberada no ambiente;
- os processos que um único ser vivo, dessa comunidade, pode realizar para capturar e eliminar esse átomo.

Q.09

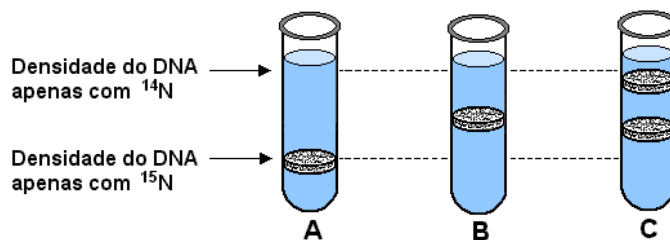
As três cores de pelagem de cães labradores (preta, marrom e dourada) são condicionadas pela interação de dois genes autossômicos, cada um deles com dois alelos: **Ee** e **Bb**. Os cães homocigóticos recessivos **ee** não depositam pigmentos nos pêlos e apresentam, por isso, pelagem dourada. Já os cães com genótipos **EE** ou **Ee** apresentam pigmento nos pêlos, que pode ser preto ou marrom, dependendo do outro gene: os cães homocigóticos recessivos **bb** apresentam pelagem marrom, enquanto os com genótipos **BB** ou **Bb** apresentam pelagem preta. Um labrador macho, com pelagem dourada, foi cruzado com uma fêmea preta e com uma fêmea marrom. Em ambos os cruzamentos, foram produzidos descendentes dourados, pretos e marrons.

- Qual é o genótipo do macho dourado, quanto aos dois genes mencionados?
- Que tipos de gameta e em que proporção esse macho forma?
- Qual é o genótipo da fêmea preta?
- Qual é o genótipo da fêmea marrom?

Q.10

Bactérias (*Escherichia coli*) foram cultivadas durante várias gerações em um meio de cultura no qual toda a fonte de nitrogênio era o isótopo pesado ^{15}N .

De uma amostra dessas bactérias (amostra A), extraiu-se o DNA que foi submetido a uma técnica de centrifugação que permite separar moléculas de DNA de acordo com sua densidade. O restante das bactérias foi transferido para um meio de cultura em que todo o nitrogênio disponível era o isótopo normal ^{14}N . Retirou-se uma segunda amostra (amostra B), quando as bactérias completaram uma divisão celular nesse novo meio e uma terceira amostra (amostra C), quando as bactérias completaram duas divisões celulares. O DNA das bactérias das amostras B e C foi também extraído e centrifugado.



A figura mostra o resultado da centrifugação do DNA das três amostras de bactérias.

- Por que, na amostra B, todo o DNA tem uma densidade intermediária entre o que é constituído apenas por ^{14}N e o que contém apenas ^{15}N ?
- Considerando que, na amostra C, a quantidade de DNA separada na faixa inferior é X, que quantidade de DNA há na faixa superior?

FUVEST
2004
Segunda Fase

Prova de Geografia

06/01/2004

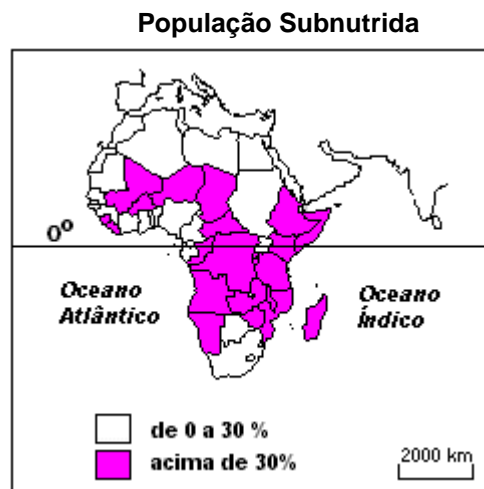
Q.01

Considerando a rede mundial de computadores, inovação tecnológica contemporânea das mais importantes, explique as afirmações.

- a) A integração econômica global é facilitada pelo uso das mesmas técnicas...
- b) ... contudo, integrar não significa incluir a todos.

Q.02

Analise o mapa.



Fonte: Atlas Geográfico Escolar, IBGE, 2002.

- a) Descreva o mapa.
- b) Explique as diferenças regionais.

Q.03

Apresente e explique uma característica

- a) dos primórdios da industrialização na Europa.
- b) dos novos espaços industriais europeus.

Q.04

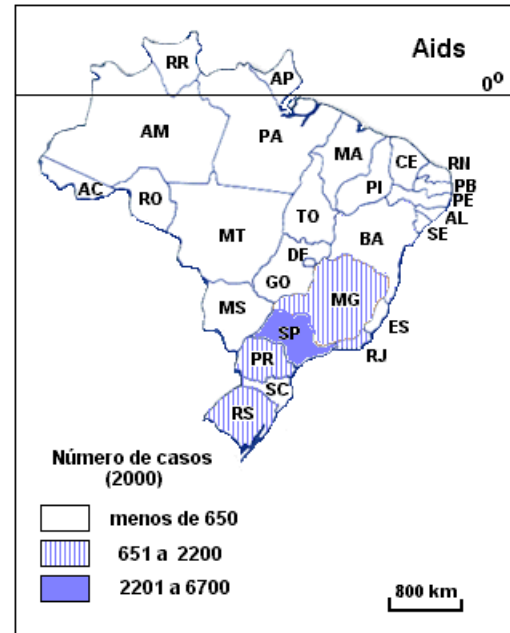
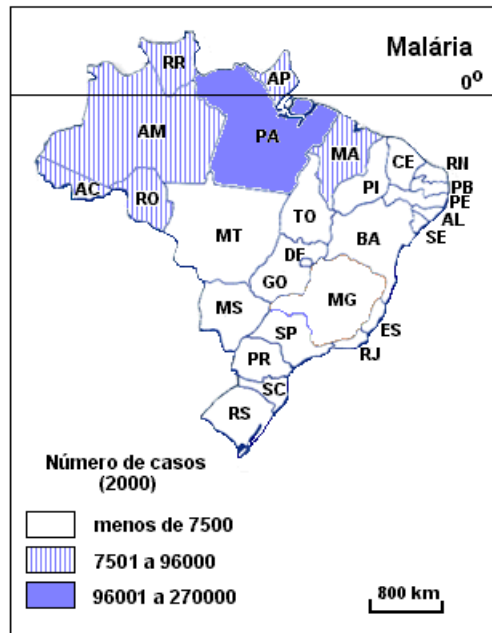
No livro *Xogun* (James Clavel, 1986), ficção ambientada no século XVI, existe uma passagem na qual o navegador inglês Blackthorne, recém-chegado ao Japão, fez um mapa-mundi na areia, tentando explicar ao líder Toranaga o lugar de onde veio, o caminho que percorreu, cruzando o Oceano Atlântico, passando pelo extremo sul do continente americano, cruzando o Oceano Pacífico, até chegar à ilha do Japão. Blackthorne conta a Toranaga que conseguiu um **portulano** português, uma espécie de **mapa secreto**, para poder passar pelo estreito de Magalhães. Toranaga quis continuar a conversa, pois ficou impressionado com a importância dos portulanos e com o tamanho diminuto do Japão. Percebeu imediatamente que Blackthorne tinha informações interessantes a ele.

Inspirando-se na passagem relatada,

- a) explique como a localização geográfica continua sendo conhecimento estratégico para a geopolítica contemporânea.
- b) associe o texto e a explicação à situação atual da Palestina.

Q.05

Observe os mapas de Ocorrência de Endemias:



Adaptação Atlas Geográfico Escolar, IBGE, 2002

Relacione as condições geográficas com a ocorrência das doenças representadas nos mapas.

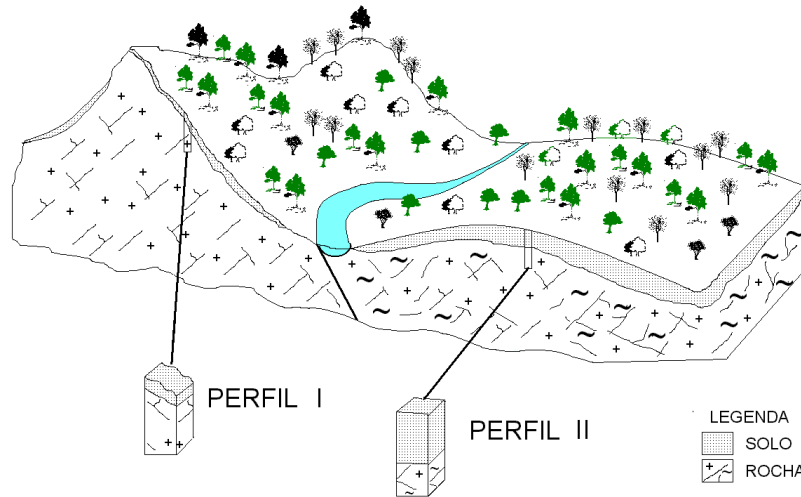
Q.06

O processo de globalização econômica e financeira envolve, de diferentes formas, vários países. Com base nessa afirmação:

- Aponte uma característica positiva e outra negativa desse processo em relação ao Brasil.
- Explique-as.

Q.07

Nos climas tropicais úmidos, são comuns os solos espessos. Entretanto, alguns fatores naturais podem mudar essa tendência geral. Observe a figura abaixo, representativa dessas áreas.



Adaptado de LEPSCH, 2001

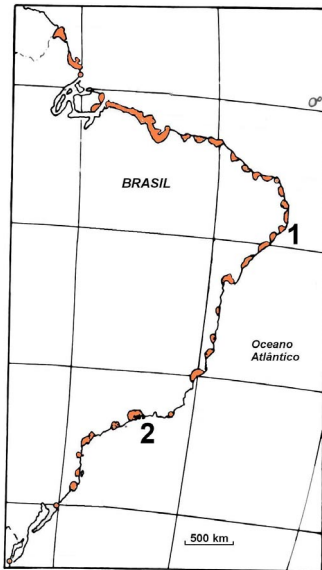
- Cite dois fatores que causam a diferença de espessura do solo entre o perfil I e II.
- Explique um dos fatores citados.

Q.08

- Identifique as duas maiores áreas urbanas da região Norte do país.
- Apresente e explique uma característica física e uma característica econômica de cada área citada.

Q.09

Observe o cartograma e a figura abaixo.



- Identifique e caracterize o ecossistema aqui representado, quanto aos aspectos físicos, relacionando-os à formação vegetal e à fauna.
- Apresente uma atividade humana que degrada este ecossistema para as regiões 1 e 2.

Q.10

“Evidentemente que hoje a reforma agrária que sonhamos não é mais a reforma agrária clássica capitalista (...). Hoje, o desenvolvimento das forças produtivas na agricultura e na sociedade e o modelo agrícola que foi adotado exigem o que chamamos de **reforma agrária de novo tipo** (...) em que não é mais suficiente apenas dividir a terra, lotear em parcelas e botar o pobre em cima e que se vire. Cinquenta anos atrás, ele se viraria, mas hoje não consegue mais”.

João Pedro Stedile, um dos coordenadores nacionais do MST. Entrevista à revista *Caros Amigos*, n. 18, p. 05, Set 2003.

Caracterize essa **“reforma agrária de novo tipo”** a que o texto se refere.