

001/001

FUVEST 2008

2ª Fase - Geografia ou Biologia (08/01/2008)

BOX 000
000/000

FUVEST

FUNDAÇÃO UNIVERSITÁRIA PARA O VESTIBULAR

Leia atentamente as instruções
abaixo

1. Aguarde a autorização do fiscal para abrir o caderno de questões e iniciar a prova.
2. Verifique se seu nome e seu número de inscrição estão corretos.
3. Duração da prova : **3 horas.**
4. A prova deve ser feita com caneta azul ou preta.
5. A solução de cada questão deve ser feita nos espaços correspondentes.
6. Este caderno de prova contém páginas destinadas a rascunho. O que estiver escrito nessas páginas **NÃO** será considerado na correção da prova.
7. Verifique se este caderno de prova contém 10 (dez) questões e se a impressão está legível.
8. **NÃO escreva no verso desta folha.**

BOA PROVA !

Ciente dessas informações, assino o canhoto abaixo.

Ordem	Inscrição	Prova	Escola/Sala/Fila/Lugar
<input type="text"/>	<input type="text"/>	<input type="text"/>	<input type="text"/>

Nome do Candidato

BIOLOGIA

Assinatura do Candidato

Biologia

LOTE

SEQ.

—

Q.01

0 1 2 3 4

Q.02

Q.03

0 1 2 3 4

Q.04

Q.05

0 1 2 3 4

Q.06

Q.07

0 1 2 3 4

Q.08

Q.09

0 1 2 3 4

Q.10

—



FUVEST 2008

NÃO
ESCREVA
NESTA
FOLHA



ATENÇÃO

ESTE CADERNO CONTÉM 10 (DEZ) QUESTÕES E RESPECTIVOS ESPAÇOS PARA RESPOSTAS.

DURAÇÃO DA PROVA: 3 (TRÊS) HORAS.

- A correção de cada questão será restrita somente ao que estiver registrado no espaço correspondente, na página de respostas, à direita.



Q.01

Na revista *Nature*, em 11 de agosto de 2005, foi publicada uma carta em que os autores sugeriram que as histórias do jovem “bruxo” Harry Potter, escritas por J. K. Rowling, poderiam ser úteis no ensino da hereditariedade.

Nessas histórias, os indivíduos podem ser “bruxos” ou “trouxas”.

- I. Harry Potter é filho único de um casal de “bruxos”.
- II. O amigo de Potter, Ron Weasley, é “bruxo” e tem pai e mãe “bruxos”. Os irmãos de Ron, Fred e George, e sua irmã Gina também são “bruxos”.
- III. A jovem “bruxa” Hermione nasceu do casamento entre uma “trouxa” e um “trouxa”.
- IV. O “bruxo” Draco Malfoy, inimigo de Potter, tem pai e mãe “bruxos”.

Com base nessas informações, responda:

- a) Supondo que ser “bruxo” ou “trouxa” é um caráter hereditário monogênico, qual(uais) das famílias permite(m) concluir que o gene que determina tal característica não se localiza no cromossomo X? Justifique.
- b) O “bruxo” Draco Malfoy despreza pessoas como Hermione, que têm pais “trouxas”, pois se considera um “bruxo” de sangue puro. Se vierem a se casar com “bruxos”, quem tem maior probabilidade de ter crianças “bruxas”, Draco ou Hermione? Por quê?

Q.02

Suponha três espécies de organismos, 1, 2 e 3, que têm exatamente o mesmo número de cromossomos.

A espécie 1 tem reprodução sexuada e na meiose ocorre permutação entre os cromossomos homólogos.

A espécie 2 tem reprodução sexuada, porém, na meiose, não ocorre permutação entre os cromossomos homólogos.

A espécie 3 se reproduz assexuadamente por meio de esporos.

Com base na constituição genética das células reprodutivas, explique se as afirmativas a e b estão corretas ou não.

- a) O número de tipos de células reprodutivas, produzido pelos indivíduos das espécies 1 e 2, deve ser igual.
- b) O número de tipos de células reprodutivas, produzido pelos indivíduos das espécies 2 e 3, deve ser diferente.

ÁREA RESERVADA ÁREA RESERVADA ÁREA RESERVADA ÁREA RESERVADA ÁREA RESERVADA ÁREA RESER

ÁREA DELIMITADA PARA A RESPOSTA DA QUESTÃO 1 - NÃO ULTRAPASSE ESTA ÁREA!

ÁREA DELIMITADA PARA A RESPOSTA DA QUESTÃO 2 - NÃO ULTRAPASSE ESTA ÁREA!

CORR 1

0

1

2

3

4

CORR 2

0

1

2

3

4

BRANCO

CORR 1

0

1

2

3

4

CORR 2

0

1

2

3

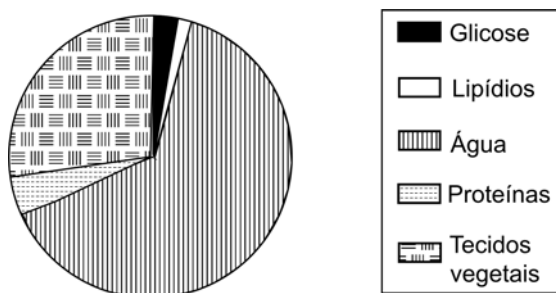
4

BRANCO



Q.03

O gráfico abaixo representa as porcentagens dos constituintes de uma folha de planta, coletada no interior de certa mata.



- A folha é o principal local de produção de glicose em uma planta. Como se explica a baixa porcentagem de glicose na folha?
- No caso de uma folha obtida de uma planta do cerrado, espera-se encontrar maior ou menor porcentagem de água e de tecidos vegetais? Justifique.

Q.04

“Organismos eucarióticos, multicelulares, heterotróficos e com revestimento de quitina”.

- Quais organismos podem ser incluídos nessa descrição?
- A quitina e a celulose têm estruturas químicas semelhantes. Que funções essas substâncias têm em comum nos organismos em que estão presentes?

ÁREA RESERVADA ÁREA RESERVADA ÁREA RESERVADA ÁREA RESERVADA ÁREA RESERVADA ÁREA RESER

ÁREA DELIMITADA PARA A RESPOSTA DA QUESTÃO 3 - NÃO ULTRAPASSE ESTA ÁREA!

ÁREA DELIMITADA PARA A RESPOSTA DA QUESTÃO 4 - NÃO ULTRAPASSE ESTA ÁREA!

CORR 1
<input type="text" value="0"/>
<input type="text" value="1"/>
<input type="text" value="2"/>
<input type="text" value="3"/>
<input type="text" value="4"/>
CORR 2
<input type="text" value="0"/>
<input type="text" value="1"/>
<input type="text" value="2"/>
<input type="text" value="3"/>
<input type="text" value="4"/>
BRANCO
<input type="text"/>

CORR 1
<input type="text" value="0"/>
<input type="text" value="1"/>
<input type="text" value="2"/>
<input type="text" value="3"/>
<input type="text" value="4"/>
CORR 2
<input type="text" value="0"/>
<input type="text" value="1"/>
<input type="text" value="2"/>
<input type="text" value="3"/>
<input type="text" value="4"/>
BRANCO
<input type="text"/>



Q.05

A tabela abaixo apresenta algumas características de dois tipos de fibras musculares do corpo humano.

Fibras musculares		
Características	Tipo I	Tipo IIB
Velocidade de contração	Lenta	Rápida
Concentração de enzimas oxidativas	Alta	Baixa
Concentração de enzimas glicolíticas	Baixa	Alta

- a) Em suas respectivas provas, um velocista corre 200 m, com velocidade aproximada de 36 km/h, e um maratonista corre 42 km, com velocidade aproximada de 18 km/h. Que tipo de fibra muscular se espera encontrar, em maior abundância, nos músculos do corpo de cada um desses atletas?
- b) Em que tipo de fibra muscular deve ser observado o maior número de mitocôndrias? Justifique.

Q.06

Os protozoários de água doce, em geral, possuem vacúolos pulsáteis, que constantemente se enchem de água e se esvaziam, eliminando água para o meio externo. Já os protozoários de água salgada raramente apresentam essas estruturas.

Explique:

- a) a razão da diferença entre protozoários de água doce e de água salgada, quanto à ocorrência dos vacúolos pulsáteis.
- b) o que deve ocorrer com um protozoário de água salgada, desprovido de vacúolo pulsátil, ao ser transferido para água destilada.



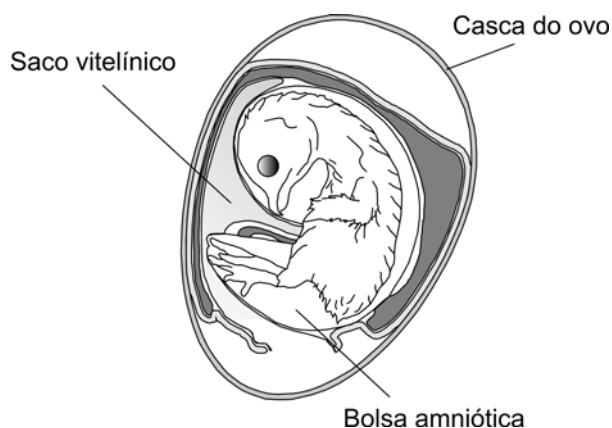
Q.07

A revista PESQUISA FAPESP, de setembro de 2007, publicou matéria com o título “Memórias Póstumas”, que destaca a importância do conhecimento sobre a ecologia e o desenvolvimento de diversas espécies de insetos, para se desvendarem mortes misteriosas.

- Como a ocorrência de moscas e besouros, que se desenvolvem nos corpos em decomposição, pode ser útil para estimar o tempo decorrido desde a morte?
- Os cientistas entrevistados para tal matéria afirmam que os insetos podem revelar que, apesar de um corpo ter sido encontrado no Rio de Janeiro, a morte não ocorreu nessa cidade. Como isso é possível?

Q.08

A figura abaixo mostra o esquema de um ovo de galinha, contendo um embrião, após 13 dias de incubação.



- Explique a importância da casca do ovo e da bolsa amniótica para o sucesso do desenvolvimento da ave.
- Na semente das angiospermas, existe um tecido cuja função é equivalente à do conteúdo do saco vitelínico. Identifique esse tecido vegetal e explique sua função.



Q.09

Em artigo publicado na revista *Nature* (27/9/2007), os cientistas James Lovelock e Chris Rapley propõem, como ação contra o aquecimento global, a instalação de tubos nos oceanos a fim de bombear, para a superfície, a água que está entre 100 e 200 metros de profundidade. A água bombeada, rica em nutrientes, funcionaria como “fertilizante” na superfície oceânica.

- a) De que maneira essa medida poderia colaborar para a redução do aquecimento global?
- b) Espera-se também que a produtividade da pesca aumente nos locais em que a água do fundo for bombeada para a superfície. Como esse procedimento poderia provocar o aumento na quantidade de peixes?

Q.10

O metano (CH_4), o gás carbônico (CO_2) e os clorofluorocarbonetos (CFC) estão relacionados, direta ou indiretamente, à intensificação do efeito-estufa e à destruição da camada de ozônio.

- a) Qual(quais) desses gases pode(m) resultar de processos biológicos?
- b) A camada de ozônio filtra raios ultravioleta (UV) que atingem a atmosfera terrestre. A diminuição dessa camada aumenta a exposição dos seres vivos a esses raios, que podem induzir mutações no DNA. Considere que os raios UV não penetram em nosso corpo além da pele.
 1. Como a exposição aos raios UV pode, a longo prazo, afetar nossa saúde? Justifique.
 2. Qual é a consequência de nossa exposição aos raios UV para a geração seguinte? Por quê?

ÁREA RESERVADA ÁREA RESERVADA ÁREA RESERVADA ÁREA RESERVADA ÁREA RESERVADA ÁREA RESER

ÁREA DELIMITADA PARA A RESPOSTA DA QUESTÃO 9 - NÃO ULTRAPASSE ESTA ÁREA!

ÁREA DELIMITADA PARA A RESPOSTA DA QUESTÃO 10 - NÃO ULTRAPASSE ESTA ÁREA!

	CORR 1	
	0	
	1	
	2	
	3	
	4	
	CORR 2	
	0	
	1	
	2	
	3	
	4	
	BRANCO	

	CORR 1	
	0	
	1	
	2	
	3	
	4	
	CORR 2	
	0	
	1	
	2	
	3	
	4	
	BRANCO	



FUVEST 2008
2ª Fase - Geografia ou Biologia (08/01/2008)

001/001

BOX 000
000/000

001/001

FUVEST 2008

2ª Fase - Geografia ou Biologia (08/01/2008)

BOX 000
000/000

FUVEST

FUNDAÇÃO UNIVERSITÁRIA PARA O VESTIBULAR

Leia atentamente as instruções abaixo

1. Aguarde a autorização do fiscal para abrir o caderno de questões e iniciar a prova.
2. Verifique se seu nome e seu número de inscrição estão corretos.
3. Duração da prova : **3 horas.**
4. A prova deve ser feita com caneta azul ou preta.
5. A solução de cada questão deve ser feita nos espaços correspondentes.
6. Este caderno de prova contém páginas destinadas a rascunho. O que estiver escrito nessas páginas **NÃO** será considerado na correção da prova.
7. Verifique se este caderno de prova contém 10 (dez) questões e se a impressão está legível.
8. **NÃO escreva no verso desta folha.**

BOA PROVA !

Ciente dessas informações, assino o canhoto abaixo.

Ordem	Inscrição	Prova	Escola/Sala/Fila/Lugar
<input type="text"/>	<input type="text"/>	<input type="text"/>	<input type="text"/>

Nome do Candidato

GEOGRAFIA

Assinatura do Candidato

Geografia

LOTE

SEQ.

— —

—

—

—

Q.01 —

0 1 2 3 4

Q.02 —

Q.03 —

0 1 2 3 4

Q.04 —

Q.05 —

0 1 2 3 4

Q.06 —

Q.07 —

0 1 2 3 4

Q.08 —

Q.09 —

0 1 2 3 4

Q.10 —

— —

—

—

—

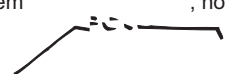


FUVEST 2008

Inscrição

Nome do Candidato

Atesto, para os devidos fins, que o candidato com o número de inscrição e nome acima mencionados compareceu à prova de Geografia do concurso vestibular FUVEST, realizada em _____, no horário de _____





NÃO
ESCREVA
NESTA
FOLHA



ATENÇÃO

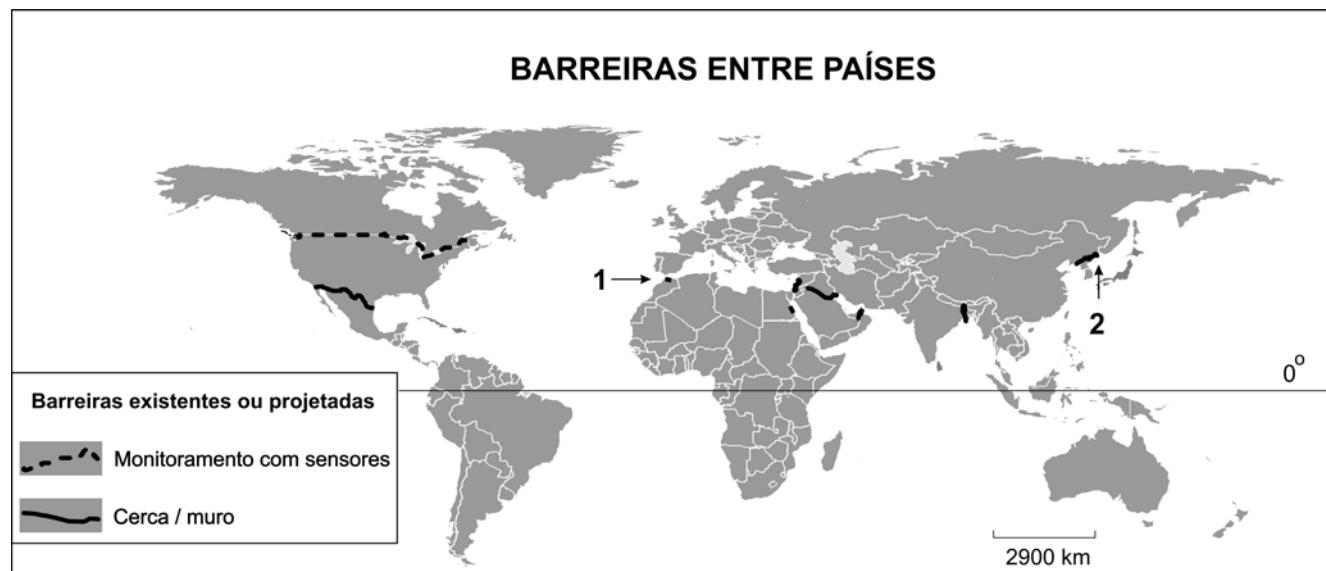
ESTE CADERNO CONTÉM 10 (DEZ) QUESTÕES E RESPECTIVOS ESPAÇOS PARA RESPOSTAS.

DURAÇÃO DA PROVA: 3 (TRÊS) HORAS.

- A correção de cada questão será restrita somente ao que estiver registrado no espaço correspondente, na página de respostas, à direita.



Q.01



Fonte: O Estado de S. Paulo, 29/10/06.

O mapa acima representa a distribuição, pelo mundo, das principais barreiras entre países.

Identifique as barreiras 1 e 2 e analise criticamente os problemas fronteiriços correspondentes, considerando os países envolvidos.

Q.02

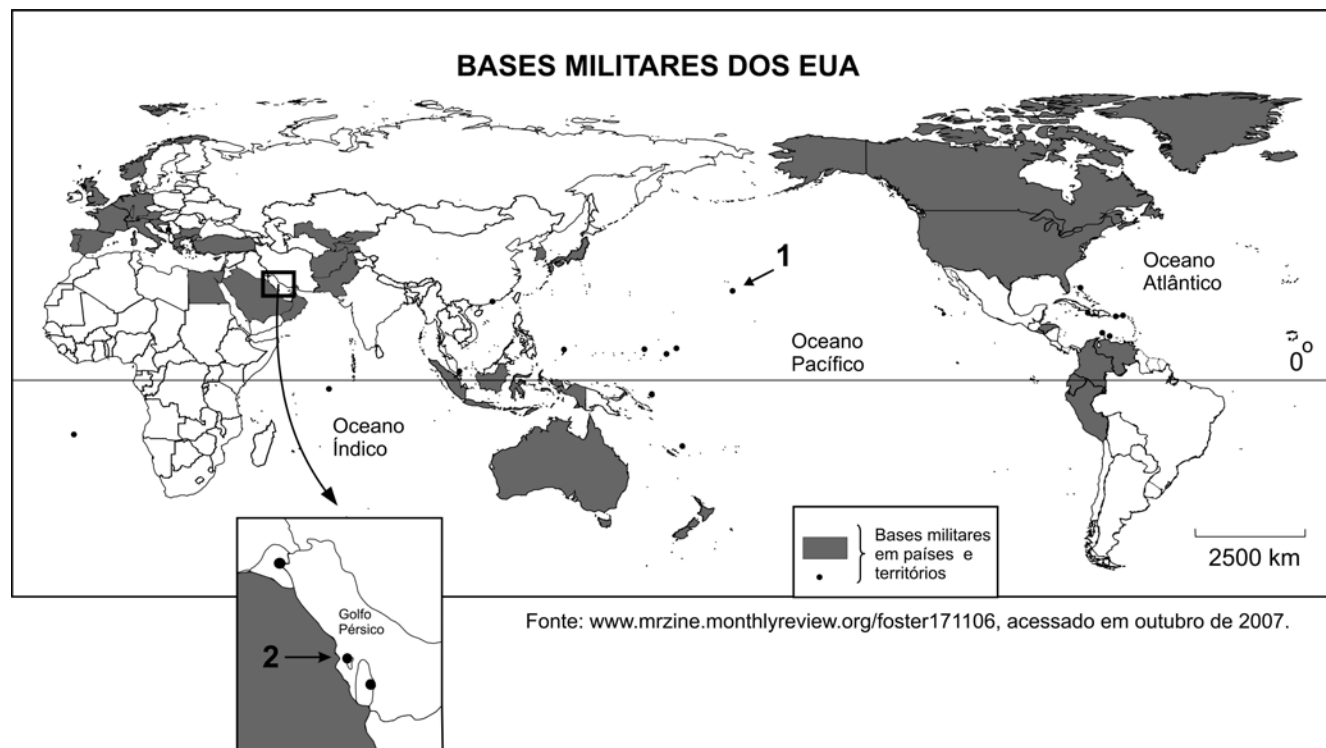
“A União Européia (UE), composta por 27 países, apresenta um sistema político historicamente único, que vem evoluindo há mais de 50 anos”.

Adaptado de Pascal Fontaine, 2007.

- Cite duas nações, membros da UE, que não aderiram à moeda única, o Euro. Explique o porquê dessa não-adesão.
- Outros países europeus estão reivindicando sua entrada para a UE. Cite um desses países e explique um motivo para tal reivindicação.
- Cite uma exigência para um país ser aceito no bloco da UE. Explique.



Q.03



Segundo estimativas, após 11 de setembro de 2001, quando ocorreram os atentados às Torres Gêmeas e ao Pentágono, os EUA aumentaram em cerca de 20% sua presença militar ao redor do mundo. Estima-se também que por volta de 300 mil soldados estejam em bases militares americanas em mais de 140 países. Considerando o mapa acima,

- identifique os locais indicados pelos números 1 e 2.
- cite e explique ao menos um motivo para a manutenção, pelos EUA, de bases militares em cada um dos locais citados no item a.

Q.04

Uma das características do setor agropecuário, na atualidade, é a alta especialização produtiva, que reforça a necessidade de circulação de alimentos pelo planeta. Como, todavia, os custos de produção são muito distintos nas diferentes porções do globo, políticas de subsídios agrícolas e de barreiras protecionistas foram e continuam sendo adotadas por alguns Estados, no sentido de proteger seus produtores rurais. Sobre políticas de subsídios agrícolas e barreiras protecionistas,

- cite dois países que as utilizam de forma sistemática e, ao menos, um produto por país citado.
- analise criticamente as ações recentes do Estado Brasileiro junto à OMC e os resultados alcançados.



Q.05

A distribuição espacial dos frigoríficos de carne bovina no Brasil obedece a lógicas distintas. Por exemplo, algumas empresas distribuem seus frigoríficos por diferentes estados, em função de problemas sanitários.

No entanto, é possível observar a existência de algumas importantes concentrações espaciais, a exemplo das destacadas no mapa com os números 1 e 2.

Nesse sentido, explique a concentração de frigoríficos

- na área 1, citando, ao menos, duas características geográficas dessa área.
- na área 2, considerando, ao menos, um aspecto físico-natural e um histórico-geográfico dessa área.



Fonte: Adaptado de DBO - A Revista de Negócios da Pecuária. Setembro, 2007.

Q.06

Em setembro de 2007, aconteceram passeatas, em diversas cidades do País, como forma de protesto contra a privatização da Vale (Companhia Vale do Rio Doce, antiga CVRD).

- Caracterize o contexto político-econômico mundial e nacional em que se deu a privatização da Vale.
- Outros movimentos pró-reestatização de empresas públicas que foram privatizadas têm ocorrido na América Latina. Identifique um país em que isto aconteceu recentemente e explique o fato.



Q.07

Com referência à biodiversidade, existem no mundo 17 países classificados como “megadiversos”. Dentre eles, destacam-se: Tailândia, Indonésia, Gabão, Congo, Colômbia e Brasil. Considerando as relações entre biodiversidade, economia e geopolítica,

- explique, utilizando-se de dois argumentos, por que a biodiversidade tornou-se um elemento importante, do ponto de vista econômico, no mundo atual.
- esclareça, utilizando-se de dois argumentos, a importância geopolítica da Amazônia.

Q.08

- Identifique as obras 1 e 2, representadas no mapa, considerando o contexto do atual planejamento brasileiro de infra-estrutura.
- Cite e explique dois possíveis impactos causados pela presença dessas obras, sendo um ambiental, em relação ao rio Madeira, e outro socioeconômico, referente ao núcleo urbano de Porto Velho.
- Cite um motivo pelo qual a Bolívia solicitou, do governo brasileiro, maiores informações sobre tais obras.



Fonte: Adaptado de Agência Nacional de Águas, 2007.



Q.09

Um dos problemas enfrentados por muitos brasileiros são os escorregamentos de grandes volumes de solo e rocha, cujas conseqüências podem incluir, não raras vezes, perda de vidas humanas.

- Cite dois fatores físico-naturais envolvidos em processos de escorregamento como o apresentado na foto ao lado. Explique-os.
- Analise, criticamente, dois tipos de ação humana, que, em geral, colaboram para a ocorrência de episódios dessa natureza.



Fonte: Adriana Ahrendt, 2005.

Q.10

O mapa representa o traçado completo previsto para o chamado Rodoanel, importante construção em andamento, na Região Metropolitana de São Paulo. Considerando o mapa e seus conhecimentos, cite e explique

- um motivo para a construção do Rodoanel, no que se refere à circulação de mercadorias pelo território nacional.
- um problema, de ordem ambiental, que pode ser relacionado a essa obra.



Fonte: Adaptado de www.dersa.sp.gov.br/rodoanel, acessado em outubro de 2007.



FUVEST 2008
2ª Fase - Geografia ou Biologia (08/01/2008)

001/001

BOX 000
000/000