

VESTIBULAR 2012

unesp



**PROVA DE
CONHECIMENTOS ESPECÍFICOS
E REDAÇÃO**

18.12.2011

002. Ciências Humanas
(Questões 01 - 12)

- ✓ Confira seus dados impressos na capa deste caderno.
- ✓ Assine com caneta de tinta azul ou preta apenas no local indicado. Qualquer identificação no corpo deste caderno acarretará a anulação da prova.
- ✓ Esta prova contém 12 questões discursivas e terá duração total de 4h30.
- ✓ A prova deve ser feita com caneta de tinta azul ou preta.
- ✓ A resolução e a resposta de cada questão devem ser apresentadas no espaço correspondente. Não serão consideradas questões resolvidas fora do local indicado.
- ✓ Os rascunhos não serão considerados na correção.
- ✓ O candidato somente poderá entregar este caderno e sair do prédio depois de transcorridas 2h15, contadas a partir do início da prova.

**NÃO
ESCREVA
NESTE
ESPAÇO**

Questão 01

O artista holandês Albert Eckhout (c.1610-c.1666) esteve no Brasil entre 1637 e 1644, na comitiva de Maurício de Nassau. A tela foi pintada nesse período e pode ser considerada exemplar da forma como muitos viajantes europeus representaram os índios que aqui viviam.



(Albert Eckhout. *Índia Tarairiu (tapuia)*, 1641.)

Identifique e analise dois elementos da imagem que expressem esse “olhar europeu” sobre o Brasil.

RESOLUÇÃO E RESPOSTA

CORREÇÃO

REVISÃO

Questão 02

*Noite após noite, quando tudo está tranquilo
E a lua se esconde por trás da colina,
Marchamos, marchamos para realizar nosso desejo.
Com machado, lança e fuzil!
Oh! meus valentes cortadores!
Os que com golpes fortes
As máquinas de cortar destroem.
Oh! meus valentes cortadores! (...).*

(Canção popular inglesa do início do século XIX. Citada por: Luzia Margareth Rago e Eduardo F. P. Moreira. *O que é Taylorismo*, 1986.)

A canção menciona os “quebradores de máquinas”, que agiram em muitas cidades inglesas nas primeiras décadas da industrialização. Alguns historiadores os consideram “rebeldes ingênuos”, enquanto outros os veem como “revolucionários conscientes”.

Justifique as duas interpretações acerca do movimento.

RASCUNHO

RESOLUÇÃO E RESPOSTA

CORREÇÃO

REVISÃO

Questão 03

Nunca houve um ano como 1968 e é improvável que volte a haver. Numa ocasião em que nações e culturas ainda eram separadas e muito diferentes — e, em 1968, Polônia, França, Estados Unidos e México eram muito mais diferentes um do outro do que são hoje — ocorreu uma combustão espontânea de espíritos rebeldes no mundo inteiro.

(Mark Kurlansky. *1968 – O ano que abalou o mundo*, 2005.)

Indique dois movimentos de “espíritos rebeldes” ocorridos em 1968 e identifique, em cada um deles, o caráter “espontâneo” mencionado no texto.

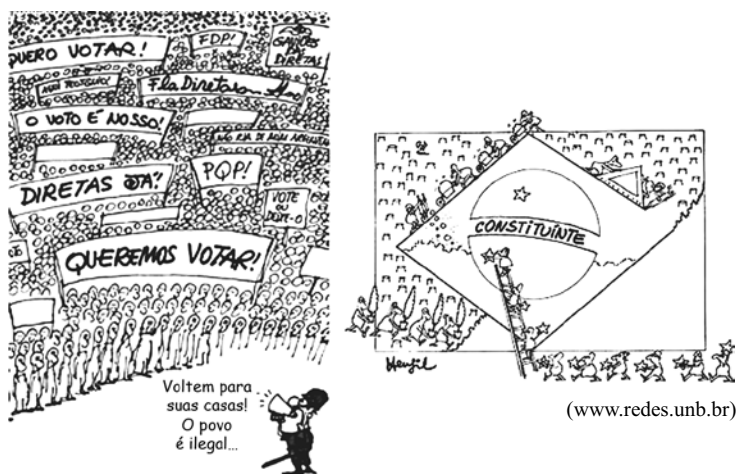
RASCUNHO

RESOLUÇÃO E RESPOSTA

CORREÇÃO

REVISÃO

Questão 04



(Henfil. *Diretas Já*, 1984. Adaptado.)

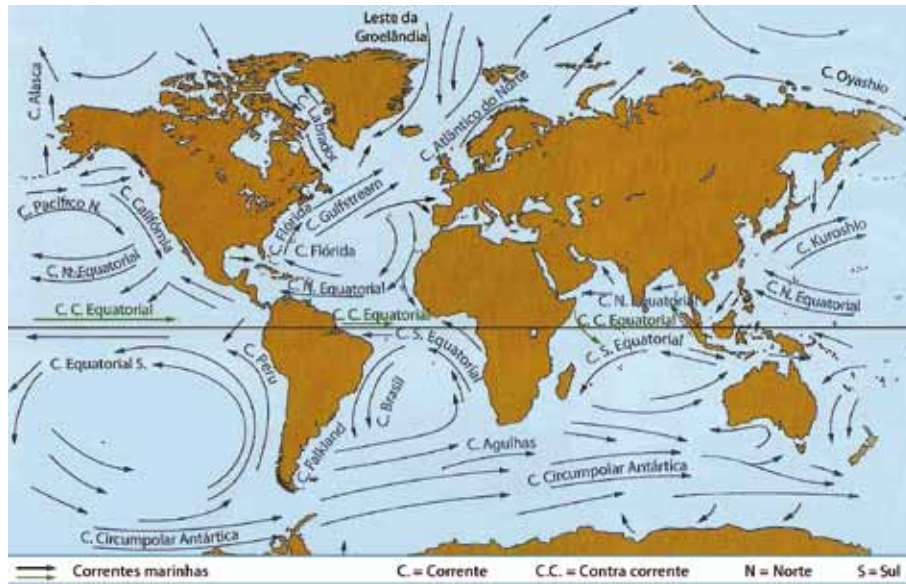
As duas charges foram publicadas em jornais brasileiros durante a década de 1980. Identifique as campanhas que elas apoiaram e caracterize o significado e os resultados dessas campanhas.

RESOLUÇÃO E RESPOSTA

CORREÇÃO

REVISÃO

No mapa, estão indicadas as principais correntes marítimas.



(Wilson Teixeira. *Decifrando a Terra*, 2009. Adaptado.)

Explique a influência da Corrente do Golfo no Atlântico Norte sobre a Europa Ocidental, e destaque os motivos das cidades de Londres e Paris terem invernos mais amenos do que Montreal e Nova Iorque.

RASCUNHO

RESOLUÇÃO E RESPOSTA

CORREÇÃO

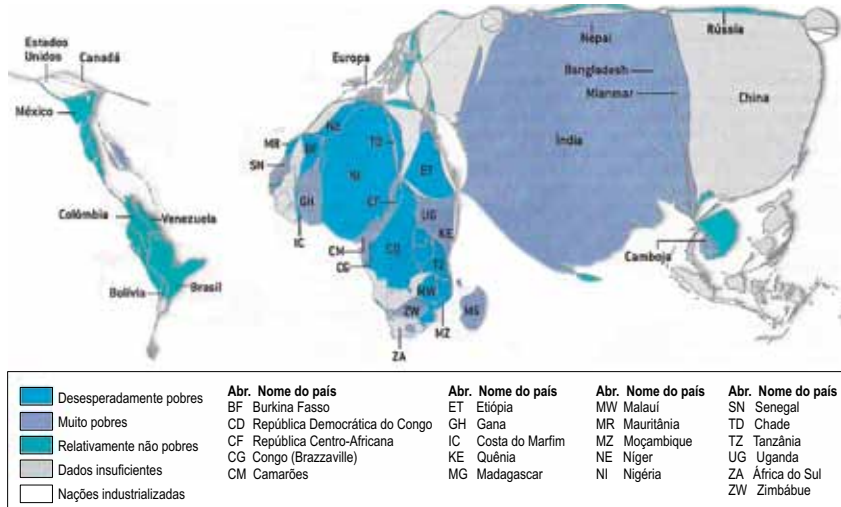
REVISÃO

Questão 06

Embora a miséria esteja espalhada pelo mundo, é possível delimitar áreas de concentração de extrema pobreza – pessoas vivendo com menos de US\$ 1 por dia.

No mapa, produzido pelo Centro de Pesquisas da Pobreza Crônica, a escala de tamanho dos países (anamorfose) está de acordo com seu número de habitantes em pobreza irreversível. A cor indica o nível de renda da maior parte dos habitantes pobres de cada país. Quando dados oficiais são insuficientes, os pesquisadores estimam as taxas nacionais de pobreza.

DOENÇA CRÔNICA: MUNDO RICO, GENTE POBRE



(Scientific American Brasil, ano I, nº 7, 2011. Adaptado.)

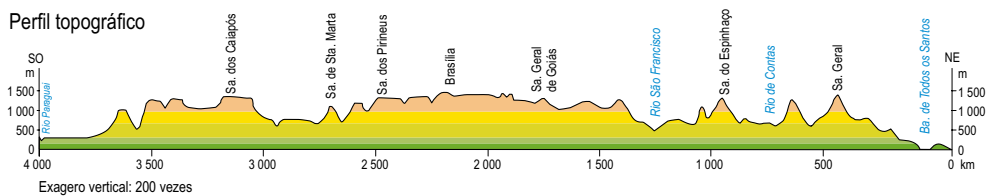
A partir da análise do mapa, cite o nome de duas regiões geográficas que se destaquem como desesperadamente pobres ou muito pobres. Exemplifique com o nome de um país que melhor demonstre a condição de desesperadamente pobre e de um país com a condição de muito pobre. A partir dos conhecimentos sobre essas regiões, mencione elementos geográficos que justifiquem essa pobreza.

RESOLUÇÃO E RESPOSTA

CORREÇÃO

REVISÃO

No mapa, estão traçados os cortes 1-2 e 3-4.



(IBGE. Atlas Geográfico Escolar, 2009. Adaptado.)

Indique o corte que identifica o perfil topográfico representado e mencione três características geográficas encontradas ao longo desse perfil.

RESOLUÇÃO E RESPOSTA

CORREÇÃO

REVISÃO

Questão 08

Observe a charge.



(www.fabianocartunista.com. Adaptado.)

Cite quatro problemas ambientais gerados pela forma urbana de viver representada na charge.

RASCUNHO

RESOLUÇÃO E RESPOSTA

CORREÇÃO

REVISÃO

A ciência moderna tem maior poder explicativo, permite previsões mais seguras e assegura tecnologias e aplicações mais eficazes. Não há dúvida de que a explicação científica sobre a natureza da chuva comporta usos que a explicação indígena não comporta, como facilitar prognósticos meteorológicos ou a instalação de sistemas de irrigação. Para a ciência moderna, a Lua é um satélite que descreve uma órbita elíptica em torno da Terra, cuja distância mínima do nosso planeta é cerca de 360 mil quilômetros, e que tem raio de 1 736 quilômetros. Para os gregos, era Selene, filha de Hyprion, irmã de Hélios, amante de Endymion e Pan, e percorria o céu numa carruagem de prata. Tenho mais simpatia pela explicação dos gregos, mas devo reconhecer que a teoria moderna permite prever os eclipses da Lua e até desembarcar na Lua, façanha dificilmente concebível para uma cultura que continuasse aceitando a explicação mitológica. Os astronautas da NASA encontraram na superfície do nosso satélite as montanhas observadas por Galileu, mas não encontraram nem Selene nem sua carruagem de prata. Para o bem ou para o mal as teorias científicas modernas são válidas, o que não ocorre com as teorias alternativas.

(Sérgio Paulo Rouanet, filósofo brasileiro, 1993. Adaptado.)

Cite o nome dos dois diferentes tipos de conhecimento comentados no texto e explique duas diferenças entre eles.

RASCUNHO

RESOLUÇÃO E RESPOSTA**CORREÇÃO****REVISÃO**

Questão 10

Leia os textos.

TEXTO 1

Ora, a propriedade privada atual, a propriedade burguesa, é a última e mais perfeita expressão do modo de produção e de apropriação baseado nos antagonismos de classes, na exploração de uns pelos outros. Neste sentido, os comunistas podem resumir sua teoria nesta fórmula única: a abolição da propriedade privada. (...)

(...)

A ação comum do proletariado, pelo menos nos países civilizados, é uma das primeiras condições para sua emancipação. Suprimi a exploração do homem pelo homem e tereis suprimido a exploração de uma nação por outra. Quando os antagonismos de classes, no interior das nações, tiverem desaparecido, desaparecerá a hostilidade entre as próprias nações.

(Marx e Engels. *Manifesto comunista*, 1848.)

TEXTO 2

Os comunistas acreditam ter descoberto o caminho para nos livrar de nossos males. Segundo eles, o homem é inteiramente bom e bem disposto para com seu próximo, mas a instituição da propriedade privada corrompeu-lhe a natureza. (...) Se a propriedade privada fosse abolida, possuída em comum toda a riqueza e permitida a todos a partilha de sua fruição, a má vontade e a hostilidade desapareceriam entre os homens. (...) Mas sou capaz de reconhecer que as premissas psicológicas em que o sistema se baseia são uma ilusão insustentável. (...) A agressividade não foi criada pela propriedade. (...) Certamente (...) existirá uma objeção muito óbvia a ser feita: a de que a natureza, por dotar os indivíduos com atributos físicos e capacidades mentais extremamente desiguais, introduziu injustiças contra as quais não há remédio.

(Sigmund Freud. *Mal-estar na civilização*, 1930. Adaptado.)

Qual a diferença que os dois textos estabelecem sobre a relação entre a propriedade privada e as tendências de hostilidade e agressividade entre os homens e as nações? Explícite, também, a diferença entre os métodos ou pontos de vista empregados pelos autores dos textos para analisar a realidade.

RASCUNHO

RESOLUÇÃO E RESPOSTA

CORREÇÃO

REVISÃO

Leia os textos.

TEXTO 1

Segundo Descartes, a realidade é dividida em duas vertentes claramente distintas e irreduzíveis uma à outra: a res cogitans (substância pensante) no que se refere ao mundo espiritual e a res extensa (substância material) no que concerne ao mundo material. Não existem realidades intermediárias. A força dessa proposição é devastadora, sobretudo em relação às concepções de matriz animista, segundo as quais tudo era permeado de espírito e vida e com as quais eram explicadas as conexões entre os fenômenos e sua natureza mais recôndita. Não há graus intermediários entre a res cogitans e a res extensa. A exemplo do mundo físico em geral, tanto o corpo humano como o reino animal devem encontrar explicação suficiente no mundo da mecânica, fora e contra qualquer doutrina mágico-ocultista.

(Giovanni Reale e Dario Antiseri. *História da filosofia*, 1990. Adaptado.)

TEXTO 2

Se você, do nada, começar a sentir enjoo, mal-estar, queda de pressão, sensação de desmaio ou dores pelo corpo, pode ter se conectado a energias ruins. Caso decida procurar um médico, ele possivelmente terá dificuldade para achar a origem do mal e pode até fazer um diagnóstico errado. Nessa hora, você pode rezar e pedir ajuda espiritual. Se não conseguir, procure um centro espírita e faça a sua renovação energética. Pode ser que encontre dificuldades para chegar lá, pois, no primeiro momento, seu mal-estar poderá até se intensificar. No entanto, se ficar firme e persistir, tudo desaparecerá como em um passe de mágica e você voltará ao normal.

(Zibia Gasparetto. <http://mdemulher.abril.com.br>. Adaptado.)

A recomendação apresentada por Zibia Gasparetto sobre a cura espiritual é compatível com as concepções cartesianas descritas no primeiro texto? Explique a compatibilidade ou a incompatibilidade entre ambas as concepções, tendo em vista o mecanicismo cartesiano e a diferença entre substância espiritual e substância material.

RASCUNHO

RESOLUÇÃO E RESPOSTA

CORREÇÃO

REVISÃO

Questão 12

“O homem é o lobo do homem” é uma das frases mais repetidas por aqueles que se referem a Hobbes. Essa máxima aparece coroada por uma outra, menos citada, mas igualmente importante: “guerra de todos contra todos”. Ambas são fundamentais como síntese do que Hobbes pensa a respeito do estado natural em que vivem os homens. O estado de natureza é o modo de ser que caracterizaria o homem antes de seu ingresso no estado social. O altruísmo não seria, portanto, natural. No estado de natureza o recurso à violência generaliza-se, cada qual elaborando novos meios de destruição do próximo, com o que a vida se torna “solitária, pobre, sórdida, embrutecida e curta, na qual cada um é lobo para o outro, em guerra de todos contra todos”. Os homens não vivem em cooperação natural, como fazem as abelhas e as formigas. O acordo entre elas é natural; entre os homens, só pode ser artificial. Nesse sentido, os homens são levados a estabelecer contratos entre si. Para o autor do *Leviatã*, o contrato é estabelecido unicamente entre os membros do grupo, que, entre si, concordam em renunciar a seu direito a tudo para entregá-lo a um soberano capaz de promover a paz. Não submetido a nenhuma lei, o soberano absoluto é a própria fonte legisladora. A obediência a ele deve ser total.

(João Paulo Monteiro. *Os Pensadores*, 2000.)

Caracterize a diferença entre estado de natureza e vida social, segundo o texto, e explique por que a é atribuída a Hobbes a concepção política de um “absolutismo sem teologia”.

RASCUNHO

RESOLUÇÃO E RESPOSTA

CORREÇÃO

REVISÃO

Os rascunhos não serão considerados na correção.

RASCUNHO

NÃO ASSINE ESTA FOLHA

Os rascunhos não serão considerados na correção.

RASCUNHO

NÃO ASSINE ESTA FOLHA

Os rascunhos não serão considerados na correção.

RASCUNHO

NÃO ASSINE ESTA FOLHA

Os rascunhos não serão considerados na correção.

RASCUNHO

NÃO ASSINE ESTA FOLHA

Os rascunhos não serão considerados na correção.

RASCUNHO

NÃO ASSINE ESTA FOLHA

VESTIBULAR 2012

unesp



**PROVA DE
CONHECIMENTOS ESPECÍFICOS
E REDAÇÃO**

18.12.2011

**003. Ciências da Natureza
e Matemática**

(Questões 13 - 24)

- ✓ Confira seus dados impressos na capa deste caderno.
- ✓ Assine com caneta de tinta azul ou preta apenas no local indicado. Qualquer identificação no corpo deste caderno acarretará a anulação da prova.
- ✓ Esta prova contém 12 questões discursivas e terá duração total de 4h30.
- ✓ A prova deve ser feita com caneta de tinta azul ou preta.
- ✓ A resolução e a resposta de cada questão devem ser apresentadas no espaço correspondente. Não serão consideradas questões resolvidas fora do local indicado.
- ✓ Os rascunhos não serão considerados na correção.
- ✓ O candidato somente poderá entregar este caderno e sair do prédio depois de transcorridas 2h15, contadas a partir do início da prova.

**NÃO
ESCREVA
NESTE
ESPAÇO**

Basta lembrar que todas as grandes nascentes do Brasil, como as dos rios São Francisco e Amazonas e da Bacia do Paraná, estão em áreas de Cerrado. Elas existem porque o Cerrado, pelas características da própria vegetação (...) e solo (...), retém grande quantidade de água. Por isso, por exemplo, a substituição artificial do Cerrado do Brasil Central por algum tipo de agricultura, principalmente uma monocultura, pode comprometer – e muito – a reposição da água subterrânea que mantém essas nascentes.

(Osmar Cavassan. *Jornal UNESP*, novembro de 2010. Adaptado.)

Cite uma característica das árvores e arbustos do cerrado que permita a essa vegetação acesso à água, e explique por que algumas monoculturas poderiam comprometer a reposição da água subterrânea nesse bioma.

RASCUNHO

RESOLUÇÃO E RESPOSTA**CORREÇÃO****REVISÃO**

Questão 14

Dona Júlia iria receber vários convidados para o almoço do domingo, e para isso passou boa parte da manhã lavando vários pés de alface para a salada. Para manter as folhas da alface tenras e fresquinhas, dona Júlia manteve-as imersas em uma bacia com água filtrada. Contudo, ao final de um bom tempo com as mãos imersas na água, a pele dos dedos de dona Júlia, ao contrário das folhas de alface, se apresentava toda enrugada.



Folha de alface tenra por permanecer na água, e detalhe de dedo enrugado por contato prolongado com a água.

Considerando a constituição da epiderme e as diferenças entre as células animal e vegetal, explique por que as folhas da alface permanecem tenras quando imersas na água e por que a pele humana se enrugou quando em contato prolongado com a água.

RASCUNHO

RESOLUÇÃO E RESPOSTA

CORREÇÃO

REVISÃO

Os indivíduos não são coisas estáveis. Eles são efêmeros. Os cromossomos também caem no esquecimento, como as mãos num jogo de cartas pouco depois de serem distribuídas. Mas as cartas, em si, sobrevivem ao embaralhamento. As cartas são os genes. Eles apenas trocam de parceiros e seguem em frente. É claro que eles seguem em frente. É essa a sua vocação. Eles são os replicadores e nós, suas máquinas de sobrevivência. Quando tivermos cumprido a nossa missão, seremos descartados. Os genes, porém, são cidadãos do tempo geológico: os genes são para sempre.

(Richard Dawkins. *O gene egoísta*, 2008.)

Considerando a reprodução sexuada, explique o que o autor do texto quis dizer ao comparar cada cromossomo, e o conjunto cromossômico de uma pessoa, às *mãos de cartas que se desfazem assim que são distribuídas*. Considerando o mecanismo de duplicação do DNA, explique a afirmação de que *os genes são para sempre*.

RASCUNHO

RESOLUÇÃO E RESPOSTA**CORREÇÃO****REVISÃO**

Questão 16

Considerando a utilização do etanol como combustível para veículos automotores, escreva a equação química balanceada da sua combustão no estado gasoso com $O_2(g)$, produzindo $CO_2(g)$ e $H_2O(g)$. Dadas para o etanol $CH_3CH_2OH(g)$ a massa molar ($g \cdot mol^{-1}$) igual a 46 e a densidade igual a $0,80 g/cm^3$, calcule a massa, em gramas, de etanol consumida por um veículo com eficiência de consumo de 10 km/L, após percorrer 115 km, e o calor liberado em kJ, sabendo-se que o calor de combustão do etanol $CH_3CH_2OH(g)$ é igual a $-1277 kJ/mol$.

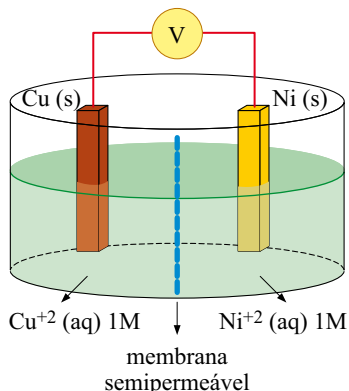
RASCUNHO

RESOLUÇÃO E RESPOSTA

CORREÇÃO

REVISÃO

Um estudante montou a célula eletroquímica ilustrada na figura, com eletrodos de Cu (s) e Ni (s) de massas conhecidas.



A 25° C e 1 atm, quando as duas semicélulas foram ligadas entre si, a célula completa funcionou como uma célula galvânica com $\Delta E = 0,59$ V. A reação prosseguiu durante a noite e, no dia seguinte, os eletrodos foram pesados. O eletrodo de níquel estava mais leve e o eletrodo de cobre mais pesado, em relação às suas massas iniciais.

Considerando $\text{Cu}^{2+}(\text{aq}) + 2\text{e}^- \rightarrow \text{Cu}(\text{s})$ e $E_{\text{red}}^\circ = +0,34\text{V}$, escreva a equação da reação espontânea que ocorre na pilha representada na figura e calcule o potencial de redução da semicélula de Ni^{2+}/Ni . Defina qual eletrodo é o cátodo e qual eletrodo é o ânodo.

RASCUNHO

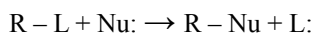
RESOLUÇÃO E RESPOSTA

CORREÇÃO

REVISÃO

Questão 18

Organismos vivos destoxificam compostos orgânicos halogenados, obtidos do meio ambiente, através de reações de substituição nucleofílica (SN).



Numa reação de SN, o 2-cloropentano reage com hidróxido de sódio em solução aquosa. O produto orgânico (A) dessa reação sofre oxidação na presença de permanganato de potássio em meio ácido, produzindo o produto orgânico (B). Escreva as equações simplificadas (não balanceadas) das duas reações, o nome do composto (A) e a função química do composto (B).

RASCUNHO

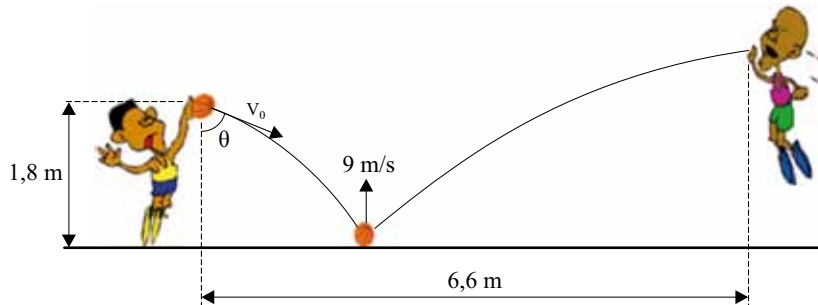
RESOLUÇÃO E RESPOSTA

CORREÇÃO

REVISÃO

Questão 19

Em um jogo de basquete, um jogador passa a bola para outro lançando-a de 1,8 m de altura contra o solo, com uma velocidade inicial $V_0 = 10$ m/s, fazendo um ângulo θ com a vertical ($\text{sen}\theta = 0,6$ e $\text{cos}\theta = 0,8$). Ao tocar o solo, a bola, de 600 g, permanece em contato com ele por um décimo de segundo e volta a subir de modo que, imediatamente após a colisão, a componente vertical de sua velocidade tenha módulo 9 m/s. A bola é apanhada pelo outro jogador a 6,6 m de distância do primeiro.



Desprezando a resistência do ar, a rotação da bola e uma possível perda de energia da bola durante a colisão com o solo, calcule o intervalo de tempo entre a bola ser lançada pelo primeiro jogador e ser apanhada pelo segundo. Determine a intensidade da força média, em newtons, exercida pelo solo sobre a bola durante a colisão, considerando que, nesse processo, a força peso que atua na bola tem intensidade desprezível diante da força de reação do solo sobre a bola. Considere $g = 10$ m/s².

RASCUNHO

RESOLUÇÃO E RESPOSTA

CORREÇÃO

REVISÃO

Questão 20

Observe o adesivo plástico apresentado no espelho côncavo de raio de curvatura igual a 1,0 m, na figura 1. Essa informação indica que o espelho produz imagens nítidas com dimensões até cinco vezes maiores do que as de um objeto colocado diante dele.



figura 1

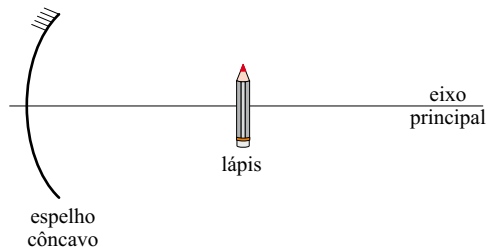


figura 2

Considerando válidas as condições de nitidez de Gauss para esse espelho, calcule o aumento linear conseguido quando o lápis estiver a 10 cm do vértice do espelho, perpendicularmente ao seu eixo principal, e a distância em que o lápis deveria estar do vértice do espelho, para que sua imagem fosse direita e ampliada cinco vezes.

RASCUNHO

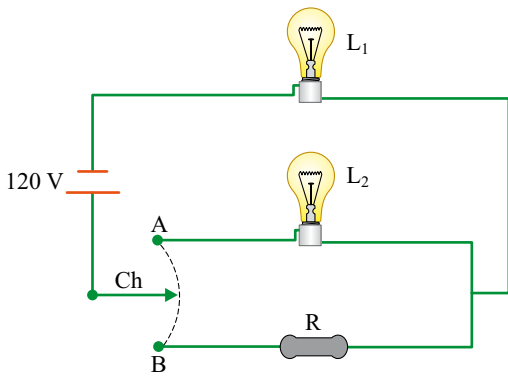
RESOLUÇÃO E RESPOSTA

CORREÇÃO

REVISÃO

Questão 21

Considere o circuito elétrico que esquematiza dois modos de ligação de duas lâmpadas elétricas iguais, com valores nominais de tensão e potência elétrica 60 V e 60 W, respectivamente.



Modo A – ambiente totalmente iluminado: a chave Ch, ligada no ponto A, mantém as lâmpadas L_1 e L_2 acesas.

Modo B – ambiente levemente iluminado: a chave Ch, ligada no ponto B, mantém apenas a lâmpada L_1 acesa, com potência menor do que a nominal, devido ao resistor R de resistência ôhmica constante estar ligado em série com L_1 .

Considerando que as lâmpadas tenham resistência elétrica constante, que os fios tenham resistência elétrica desprezível e que a diferença de potencial de 120 V que alimenta o circuito seja constante, calcule a energia elétrica consumida, em kWh, quando as lâmpadas permanecem acesas por 4 h, ligadas no modo A – ambiente totalmente iluminado.

Determine a resistência elétrica do resistor R, para que, quando ligada no modo B, a lâmpada L_1 dissipe uma potência de 15 W.

RASCUNHO

RESOLUÇÃO E RESPOSTA

CORREÇÃO

REVISÃO

Questão 22

O número de quatro algarismos $77XY$, onde X é o dígito das dezenas e Y o das unidades, é divisível por 91. Determine os valores dos dígitos X e Y .

RASCUNHO

RESOLUÇÃO E RESPOSTA

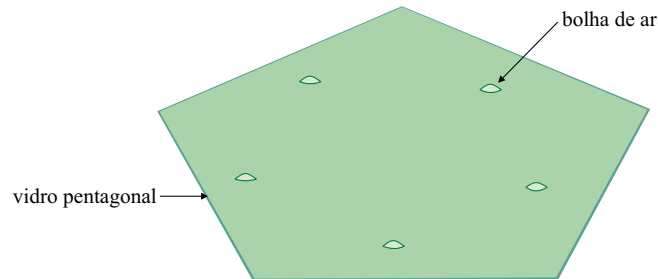
CORREÇÃO

REVISÃO

Questão 23

Um artesão foi contratado para ornamentar os vitrais de uma igreja em fase final de construção. Para realizar o serviço, ele precisa de pedaços triangulares de vidro, os quais serão cortados a partir de um vidro pentagonal, com ou sem defeito, que possui n bolhas de ar ($n = 0, 1, 2, \dots$).

Sabendo que não há 3 bolhas de ar alinhadas entre si, nem 2 delas alinhadas com algum vértice do pentágono, e nem 1 delas alinhada com dois vértices do pentágono, o artesão, para evitar bolhas de ar em seu projeto, cortou os pedaços de vidro triangulares com vértices coincidindo ou com uma bolha de ar, ou com um dos vértices do pentágono.



Nessas condições, determine a lei de formação do número máximo de triângulos (T) possíveis de serem cortados pelo artesão, em função do número (n) de bolhas de ar contidas no vidro utilizado.

RASCUNHO

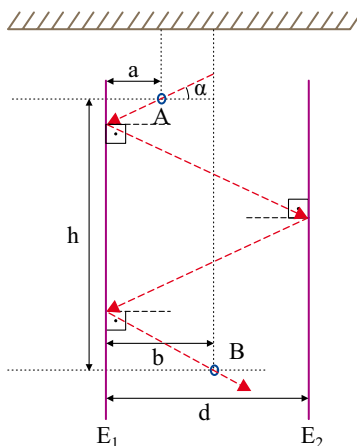
RESOLUÇÃO E RESPOSTA

CORREÇÃO

REVISÃO

Questão 24

Sejam dois espelhos planos (E_1 e E_2), posicionados verticalmente, com suas faces espelhadas voltadas uma para outra, e separados por uma distância d , em centímetros. Suspensos por finas linhas, dois pequenos anéis (A e B) são posicionados entre esses espelhos, de modo que as distâncias de A e B ao espelho E_1 sejam, respectivamente, a e b , em centímetros, e a distância vertical entre os centros dos anéis seja h , em centímetros, conforme mostra a figura.



Determine o ângulo de incidência α , em relação à horizontal, em função de a , b , d e h , para que um feixe de luz atravesse o anel A, se reflita nos espelhos E_1 , E_2 e E_1 e atravesse o anel B, como indica o percurso na figura. Admita que os ângulos de incidência e de reflexão do feixe de luz sobre um espelho sejam iguais.

RASCUNHO

RESOLUÇÃO E RESPOSTA

CORREÇÃO

REVISÃO

Os rascunhos não serão considerados na correção.

RASCUNHO

NÃO ASSINE ESTA FOLHA

Os rascunhos não serão considerados na correção.

RASCUNHO

NÃO ASSINE ESTA FOLHA

Os rascunhos não serão considerados na correção.

RASCUNHO

NÃO ASSINE ESTA FOLHA

Os rascunhos não serão considerados na correção.

RASCUNHO

NÃO ASSINE ESTA FOLHA

Os rascunhos não serão considerados na correção.

RASCUNHO

NÃO ASSINE ESTA FOLHA

VESTIBULAR 2012

unesp



**PROVA DE
CONHECIMENTOS ESPECÍFICOS
E REDAÇÃO**

19.12.2011

004. Linguagens e Códigos
(Questões 25 - 36)

- ✓ Confira seus dados impressos na capa deste caderno.
- ✓ Assine com caneta de tinta azul ou preta apenas no local indicado. Qualquer identificação no corpo deste caderno acarretará a anulação da prova.
- ✓ Esta prova contém 12 questões discursivas e uma proposta de redação.
- ✓ A prova terá a duração total de 4h30.
- ✓ A prova deve ser feita com caneta de tinta azul ou preta.
- ✓ A resolução e a resposta de cada questão devem ser apresentadas no espaço correspondente. Não serão consideradas questões resolvidas fora do local indicado.
- ✓ Os rascunhos não serão considerados na correção.
- ✓ O candidato somente poderá entregar este caderno e sair do prédio depois de transcorridas 2h15, contadas a partir do início da prova.

**NÃO
ESCREVA
NESTE
ESPAÇO**

INSTRUÇÃO: As questões de números 25 a 28 tomam por base uma passagem de um conto de Ignácio de Loyola Brandão (1936-) e parte de um artigo de Bernardo Jefferson de Oliveira.

O homem que queria eliminar a memória

(...)

Estava na sala diante do doutor. Uma sala branca, anônima. Por que são sempre assim, derrotando a gente logo de entrada?

O médico:

— *Sim?*

— *Quero me operar. Quero que o senhor tire um pedaço do meu cérebro.*

— *Um pedaço do cérebro? Por que vou tirar um pedaço do seu cérebro?*

— *Porque eu quero.*

— *Sim, mas precisa me explicar. Justificar.*

— *Não basta eu querer?*

— *Claro que não.*

— *Não sou dono do meu corpo?*

— *Em termos.*

— *Como em termos?*

— *Bem, o senhor é e não é. Há certas coisas que o senhor está impedido de fazer. Ou melhor; eu é que estou impedido de fazer no senhor.*

— *Quem impede?*

— *A ética, a lei.*

— *A sua ética manda também no meu corpo? Se pago, se quero, é porque quero fazer do meu corpo aquilo que desejo. E se acabou.*

— *Olha, a gente vai ficar o dia inteiro nesta discussão boba. E não tenho tempo a perder. Por que o senhor quer cortar um pedaço do cérebro?*

— *Quero eliminar a minha memória.*

— *Para quê?*

— *Gozado, as pessoas só sabem perguntar: o quê? por quê? para quê? Falei com dezenas de pessoas e todos me perguntaram: por quê? Não podem aceitar pura e simplesmente alguém que deseja eliminar a memória.*

— *Já que o senhor veio a mim para fazer esta operação, tenho ao menos o direito dessa informação.*

— *Não quero mais me lembrar de nada. Só isso. As coisas passaram, passaram. Fim!*

— *Não é tão simples assim. Na vida diária, o senhor precisa da memória. Para lembrar pequenas coisas. Ou grandes. Compromissos, encontros, coisas a pagar, etc.*

— *É tudo isso que vou eliminar. Marco numa agenda, olho ali e pronto.*

— *Não dá para fazer isso, de qualquer modo. A medicina não está tão adiantada assim.*

— *Em lugar nenhum posso eliminar a minha memória?*

— *Que eu saiba não.*

— *Seria muito melhor para os homens. O dia a dia. O dia de hoje para a frente. Entende o que eu quero dizer? Nenhuma lembrança ruim ou boa, nenhuma neurose. O passado fechado, encerrado. Definitivamente bloqueado. Não seria engraçado? Não se lembrar sequer do que se tomou no café da manhã? E para que quero me lembrar do que tomei no café da manhã?*

(Ignácio de Loyola Brandão. *Cadeiras proibidas: contos*. Rio de Janeiro: Codecri, 1984, p. 32-34.)

Uma boa forma de se pensar as possibilidades e riscos no avanço das ciências é se aventurar nas ficções literárias e cinematográficas. Enquanto os cientistas devem zelar para não fazer especulações infundadas, os autores de ficção tratam de dar asas à imaginação e projetar em histórias emocionantes as possíveis aplicações da ciência e alguns de seus efeitos inesperados.

A possibilidade de recriação da vida humana ou do controle que poderíamos ter sobre seus corpos e destinos são alguns dos grandes temas que há muito tempo vêm sendo explorados. O que seria de nossa vida se soubéssemos como prolongá-la indefinidamente? Como ficariam nossos corpos se pudéssemos transformá-los à vontade ou se conseguíssemos fabricar seres para nos substituírem nas tarefas duras e chatas? Não seria uma maravilha se pudéssemos implantar ou fazer um download de memórias e conhecimentos que nos dispensassem de ter que aprender “na marra”, com muito estudo e algumas experiências ruins? Que tal poder escolher e reconfigurar nossas características e as das pessoas com quem convivemos?

Nosso imaginário é povoado por robôs, clones, artificios fantásticos, instrumentos poderosos e tecnologias sofisticadas que aparecem sob variadas formas nos enredos de diversos filmes. Metrópolis, Frankenstein, Blade Runner, Inteligência Artificial, Eu Robô e Matrix são alguns que se tornaram clássicos, pois foram marcantes para gerações e continuam sendo referidos e revisitados. De maneira geral, retratam como boas ideias podem ter desdobramentos imprevistos e indesejáveis. É o que acontece, por exemplo, nas narrativas utópicas que descrevem sociedades ideais, mas que se revelam sombrias e nada atraentes quando conhecidas de perto, como nos filmes 1984 ou Brazil.

Isto obviamente não invalida, nem deveria desestimular, os avanços do conhecimento. Pelo contrário! Juntamente com as dúvidas que essas histórias lançam sobre nossas certezas e expectativas, elas suscitam interrogações e recolocam questões fundamentais. Se a engenharia genética pode fazer as pessoas melhores, mais saudáveis, mais desejáveis, por que não seguir em frente? Quais seriam as implicações dessa seleção artificial?

Assistir e conversar sobre o filme GATTACA é uma boa forma de entrar nessa discussão. O nome da produção e do local onde se passa vem das letras com que representamos as sequências do DNA (G, A, T, C). Mais precisamente, as iniciais das bases químicas dessas moléculas: Guanina, Adenina, Timina e Citosina. O filme retrata uma sociedade organizada e estratificada de forma racional, tomando como base o levantamento genético dos indivíduos. Aparentemente, uma forma de se aproveitar melhor, e para o bem comum, as características e o potencial de cada um. Acontece que um jovem, inconformado com o destino que seus genes “defeituosos” lhe reservara, falseia sua identidade genética para assumir a profissão com que sempre sonhara, a de espaçonauta. Boa parte da trama e do suspense do filme advém do fato de que sua verdadeira identidade biológica, inválida para aquela atividade, tinha que ser ocultada todo o tempo e com muita astúcia, pois a manutenção da ordem social se baseava em constantes escaneamentos genéticos. As situações enfrentadas pelo personagem nos levam a compartilhar sua percepção de injustiça, e torcer pela subversão ao sistema.

(Bernardo Jefferson de Oliveira. *Os avanços da genética nos filmes*. pré-Univesp, edição 6, 15.11.2010: www.univesp.ensinosuperior.sp.gov)

A personagem do conto de Loyola Brandão, em suas tentativas de demonstrar ao médico que seria bom eliminar a memória, apresenta, entre seus argumentos, no último parágrafo, um de ordem emocional, sentimental. Identifique esse argumento e justifique-o do ponto de vista da personagem.

RASCUNHO

RESOLUÇÃO E RESPOSTA

CORREÇÃO

REVISÃO

Questão 26

Depois de comparar os dois textos, demonstre que, quanto à questão da memória, o homem do conto, que procura o médico, e o pesquisador Bernardo Jefferson de Oliveira manifestam opiniões bem distintas.

RASCUNHO

RESOLUÇÃO E RESPOSTA

CORREÇÃO

REVISÃO

Segundo se depreende da síntese de Bernardo Jefferson de Oliveira, ao apresentar *uma sociedade organizada e estratificada de forma racional, tomando como base o levantamento genético dos indivíduos*, o filme *GATTACA* focaliza uma utopia cuja aplicação, como em todas as utopias, acaba não dando inteiramente certo. Indique qual o aspecto da natureza humana que a organização da sociedade de *GATTACA* ignorou e que acabou gerando toda complicação focalizada no enredo do filme.

RASCUNHO

RESOLUÇÃO E RESPOSTA

CORREÇÃO

REVISÃO

Questão 28

No primeiro parágrafo e em outras passagens do artigo, Bernardo Jefferson de Oliveira destaca que os literatos e os cineastas desfrutam de uma liberdade que os cientistas não têm ante suas próprias descobertas científicas. Que liberdade é essa?

RASCUNHO

RESOLUÇÃO E RESPOSTA

CORREÇÃO

REVISÃO

INSTRUÇÃO: As questões de números 29 a 32 tomam por base uma passagem de um conto de Machado de Assis (1839-1908) e uma tira do cartunista Laerte (Laerte Coutinho, 1951-).

Um homem superior

Quis a desgraça de Medeiros [patrão de Clemente] que os negócios lhe corressem mal; duas ou três catástrofes comerciais o puseram às portas da morte.

Clemente Soares fez quanto pôde para salvar a casa de que dependia o seu futuro, mas nenhum esforço era possível contra um desastre marcado pelo destino, que é o nome que se dá à tolice dos homens ou ao concurso das circunstâncias.

Achou-se sem emprego nem dinheiro.

(...)

No pior da sua posição, recebeu Clemente uma carta em que o comendador o convidava a ir passar algum tempo na fazenda.

Sabedor da catástrofe de Medeiros, queria o comendador naturalmente dar a mão ao rapaz. Este não esperou que repetisse o convite. Escreveu logo dizendo que daí a um mês se poria em marcha.

*Efetivamente um mês depois saía Clemente Soares em caminho do município de***, onde era a fazenda do comendador Brito.*

O comendador esperava-o ansioso. E não menos ansiosa estava a moça, não sei se porque já lhe tivesse amor, se porque ele fosse uma distração no meio da monótona vida rural.

Recebido como amigo, tratou Clemente Soares de pagar a hospitalidade, fazendo-se conviva alegre e divertido.

Ninguém o poderia melhor do que ele.

Dotado de grande perspicácia, compreendeu em poucos dias como entendia o comendador a vida do campo, e tratou de o lisonjear por todos os modos.

Infelizmente, dez dias depois da sua chegada à fazenda, adoeceu gravemente o comendador Brito, por maneira que o médico poucas esperanças deu à família.

Era ver o zelo com que Clemente Soares servia de enfermeiro do doente, procurando por todos os meios suavizar-lhe os males. Passava noites em claro, ia aos povoados quando era necessário fazer alguma coisa mais importante, consolava o doente já com palavras de esperanças, já com animada conversa, cujo fim era distraí-lo de pensamentos lúgubres.

— Ah! dizia o pobre velho, que pena que eu o não conhecesse há mais tempo! Bem vejo que é um verdadeiro amigo.

— Não me elogie, comendador; dizia Clemente Soares, não me elogie, que é tirar o mérito, se o há, destes deveres agradáveis ao meu coração.

O procedimento de Clemente influiu no ânimo de Carlotinha, que nesse desafio de solicitude soube mostrar-se esposa dedicada e reconhecida. Ao mesmo tempo fez com que em seu coração se desenvolvesse o gérmen de afeto que Clemente de novo lhe lançara.

Carlotinha era uma moça frívola; mas a doença do marido, a perspectiva da viuvez, o desvelo do rapaz, tudo fez nela uma profunda revolução.

E mais que tudo, a delicadeza de Clemente Soares, que, durante esse tempo de tão graves preocupações para ela, nenhuma palavra de amor lhe dirigiu.

Era impossível que o comendador escapasse à morte.

(Machado de Assis. *Contos fluminenses*, vol. II. São Paulo: Editora Mérito, 1962, p. 103-105.)

Fagundes, um puxa-saco de mão-cheia



(Laerte [Laerte Coutinho]. *Fagundes: um puxa-saco de mão-cheia*. Porto Alegre: L&PM, 2007, p.16.)

Questão 29

Dotado de grande perspicácia, compreendeu em poucos dias como entendia o comendador a vida do campo, e tratou de o lisonjear por todos os modos.

Explique em que medida o verbo “lisonjear”, empregado na frase, representa uma síntese da atitude de Clemente Soares ante o comendador, na passagem apresentada.

RASCUNHO

RESOLUÇÃO E RESPOSTA

CORREÇÃO

REVISÃO

O que sugere com certa malícia o narrador, ao empregar a forma verbal *soube* no fragmento apresentado, dizendo que Carlotinha *soube mostrar-se esposa dedicada e reconhecida*, quando poderia ter dito que ela “mostrou-se esposa dedicada e reconhecida”?

RASCUNHO

RESOLUÇÃO E RESPOSTA

CORREÇÃO

REVISÃO

Questão 31

Releia o segundo parágrafo do conto de Machado de Assis e explique o que deixa implícito o narrador a respeito da noção usual de destino.

RASCUNHO

RESOLUÇÃO E RESPOSTA

CORREÇÃO

REVISÃO

Na tira de Laerte, aponte o que o aluno não percebeu de imediato como primeira lição de Fagundes.

RASCUNHO

RESOLUÇÃO E RESPOSTA

CORREÇÃO

REVISÃO

INSTRUÇÃO: Leia o texto para responder, em português, às questões de números 33 e 34.

Gattaca Review
by James Brundage

(January 15th, 1999)



Gattaca is a character drama in the guise of a thriller, the same way that The Truman Show was a drama in the guise of a comedy. Andrew Niccol works his beautiful charms with both of them. In Gattaca, he offers us a stunning vision of the not-so-distant future, a time where genetic engineering is so commonplace that it is common practice. The world, of course, has the drawback that anyone who was not genetically engineered is part of a new class of society, called an invalid.

Vincent Freeman was born this way. He chooses, however, not to remain an invalid but to become what is known as a de-generate, someone who uses other people's blood, urine, hair etc. to fake a genetic code superior to their own. His dream was to end up in space and being this particularly loathed thing is the only way he is able to do it. Lending his dream to the real Gerome Morrow, a suicidal cripple, the two band together to get him into space. Everything is going well, he is set to leave in a week. Then the mission director is murdered.

This occurs, in my opinion, only to keep less intelligent viewers interested in the story, which contains enough pathos to warrant me watching it if it didn't involve a murder at all. As Vincent tries to keep his secret, he is falling in love with Irene Cassini, another worker at Gattaca, the story's equivalent of Cape Canaveral. The panic caused by the moment causes each person involved to examine themselves, society, and the state of the world.

The sad thing about Gattaca is that so many people will hate this movie because of its utterly slow pace. It does not keep the interest of someone not intrigued by people, which encompasses most every viewer today. So that takes out studio fans, and its Star Trek target audience.

(www.killermovies.com. Adaptado.)

Questão 33

Quem era denominado pelo termo *invalid* no contexto da história do filme? O que significava ser um *de-generate*, no mesmo contexto?

RESOLUÇÃO E RESPOSTA

CORREÇÃO

REVISÃO

Segundo a crítica, por que o diretor da missão espacial foi assassinado? Havia realmente necessidade de esse fato ocorrer?

RASCUNHO

RESOLUÇÃO E RESPOSTA

CORREÇÃO

REVISÃO

INSTRUÇÃO: Leia o texto para responder, em português, às questões de números 35 e 36.

Personal Marketing: Selling yourself

Before you begin a job search campaign you must have a personal marketing strategy. A personal marketing strategy provides you with a game plan for your job search campaign.

You should look at the job search as a marketing campaign, with you, the job seeker, as the product. Every product, even the best ones, won't succeed without a strong marketing strategy. This begins with a comprehensive, yet flexible plan. First you must know to whom you are marketing. You must identify the types of employers who would be looking for an employee with your qualifications. Are they all within a certain industry? Are there many industries that hire employees with your background?

You already know that personal marketing skills are important to your career and perhaps to find a better job, but the only problem is that the art of self marketing is difficult for a lot of people.

Selling yourself well doesn't mean talking just about yourself or arrogantly telling others how great you are. By selling yourself, in an interview or an informal networking meeting, I mean thinking first about the employer's needs and expectations and figuring out how you can create value for their organization. What does the potential employer really need from a new employee? What specific technical skills, workplace competencies and personal qualities is the employer looking for? Now if you can ask those questions dispassionately, you should be able to identify your own strengths that match and gently weave them into every conversation you have in the world of good jobs and prospective careers.

(Adaptado de <http://careerplanning.about.com> e www.your-career-change.com)

Questão 35

Liste quatro aspectos importantes a serem considerados, segundo o texto, para se realizar uma propaganda de si mesmo com a finalidade de conseguir um emprego.

RASCUNHO

RESOLUÇÃO E RESPOSTA

CORREÇÃO

REVISÃO

Qual o significado da oração *...if you can ask those questions dispassionately...* no texto? A quais perguntas se faz referência nessa oração?

RASCUNHO

RESOLUÇÃO E RESPOSTA

CORREÇÃO

REVISÃO

REDAÇÃO

As reações do cérebro à bajulação

Pesquisa mostra que se você for bajular alguém é melhor fazer elogios descarados

Não é o que os meritocratas convictos gostariam de ouvir. Uma pesquisa da escola de negócios da Hong Kong University of Science and Technology indica que a bajulação tem um efeito marcante no cérebro da pessoa bajulada. Mais surpreendente do que isso é a conclusão do estudo de autoria de Elaine Chan e Jaideep Sengupta: quanto mais descarada a bajulação, mais eficiente ela é. A pesquisa deu origem a um artigo no Journal of Marketing Research, intitulado Insincere Flattery Actually Works (“Bajulação insincera de fato funciona”, numa tradução literal) e rapidamente chamou a atenção da imprensa científica mundial.

Os autores são cautelosos ao afirmar que puxar o saco funciona, mas é nessa direção que sua pesquisa aponta. Elaine e Sengupta criaram situações nas quais os pesquisados foram expostos à bajulação insincera e oportunista. Numa delas, distribuíram um folder entre os pesquisados que detalhava o lançamento de uma nova rede de lojas. O material publicitário elogiava o “apurado senso estético” do consumidor. Apesar do evidente puxa-saquismo, o sentimento posterior das pessoas foi de simpatia em relação à rede. Entre os participantes, a medição da atividade cerebral no córtex pré-frontal (responsável pelo registro de satisfação) indicou um aumento de estímulos nessa região. O mesmo ocorreu em todas as situações envolvendo elogios.

Segundo os pesquisadores, a bajulação funciona devido a um fenômeno cerebral conhecido como “comportamento de atraso”. A primeira reação ao elogio insincero é de rejeição e desconsideração. Apesar disso, a bajulação fica registrada, cria raízes e se estabelece no cérebro humano. A partir daí, passa a pesar subjetivamente no julgamento do elogiado, que tende, com o tempo, a formar uma imagem mais positiva do bajulador. Isso vale desde a agência de propaganda até o funcionário que leva um cafezinho para o chefe. “A suscetibilidade à bajulação nasce do arraigado desejo do ser humano de se sentir bem consigo mesmo”, diz Elaine Chan. A obviedade e o descaramento do elogio falso, paradoxalmente, conferem-lhe maior força. Segundo os pesquisadores, é a rapidez com que descartamos os elogios manipuladores que faz com que eles passem sem filtro pelo cérebro e assim se estabeleçam de forma mais duradoura.

Segundo Elaine e Sengupta, outro fator contribui para a bajulação. É o “efeito acima da média”. Temos a tendência de nos achar um pouco melhor do que realmente somos, pelo menos em algum aspecto. Pesquisas com motoristas comprovam: se fôssemos nos fiar na autoimagem ao volante, não haveria barbeiros. Isso vale até para a pessoa com baixa autoestima. Em alguma coisa, ela vai se achar boa, nem que seja em bater figurinha.

Mas se corremos o risco de autoengano com a ajuda do bajulador, como se prevenir? “Desenvolvendo uma autoestima autêntica”, diz Elaine. A pessoa equilibrada, que tem amor-próprio, é mais realista sobre si mesma, aceita-se melhor e se torna mais imune à bajulação.

(As reações do cérebro à bajulação. *Época Negócios*, março de 2010, p. 71.)

PROPOSIÇÃO

Bajular, lisonjear, adular, puxar saco são atitudes consideradas, muitas vezes, defeitos de caráter ou deslizes de natureza ética; são, também, condenadas pelas próprias religiões, como vícios ou “pecados”. As ficções literárias, teatrais e cinematográficas estão repletas de tipos bajuladores, lisonjeadores, adutores, puxa-sacos, quase sempre sob o viés do ridículo e do desvio de caráter. Modernamente, porém, pelo menos em parte, essa condenação à bajulação e à lisonja tem sido atenuada, e até mesmo justificada por alguns como parte do *marketing pessoal*, ou como estratégia para atingir metas, dado o fato de que, como se informa no próprio artigo acima apresentado, até o elogio mais insincero pode encontrar eco na mente e no coração do elogiado. Na passagem do conto de Machado de Assis, apresentada nesta prova, Clemente Soares acabou atingindo seus objetivos por meio da bajulação, e a personagem Fagundes, de Laerte, parece viver sempre feliz em sua atividade preferencial de bajular.

Refleta sobre o conteúdo dos três textos mencionados e elabore uma redação de gênero dissertativo, empregando a norma-padrão da língua portuguesa, sobre o tema:

A BAJULAÇÃO: VIRTUDE OU DEFEITO?

